



FikrBilim
yayınları

6
.SINIF

KDS DENEME 3

Adı Soyadı : _____

Sınıfı / Şubesi : _____

Öğrenci Numarası : _____

Ders Adı	Soru Sayısı	Toplam Soru Sayısı
Türkçe	15	75
Sosyal Bilgiler	10	
Din Kültürü ve Ahlak Bilgisi	10	
İngilizce	10	
Matematik	15	Sınav Süresi (Dakika)
Fen Bilgisi	15	150

Öğrencilerin Dikkatine!

1. Sınıf öğrenci yoklama listesinde belirtilen sınıfta ve sıra numarasında oturunuz.
2. Cevap kağıdındaki kimlik bilgilerinin doğruluğunu kontrol ediniz. Bilgiler size ait değilse veya cevap kağıdı kullanılmayacak durumdaysa görevlilere belirtiniz.
3. Kitapçık türünü cevap kağıdındaki ilgili alana kodlayınız.
4. Cevap kağıdı üzerindeki kodlamaları kurşun kalemle yapınız.



2019-2020

TÜRKÇE

Bu testte 15 soru vardır. Cevaplarınızı optik formdaki "Türkçe" bölümüne kodlayınız.

1. Şekerin hemen hiç bulunmadığı yıllarda bir öğretmen bir köye konuk olur. Akşam yemekten sonra evde bir telaştır başlar. Ev sahibi sandığın anahtarını bir türlü bulamamıştır. Evin her köşesi aranır, taranır , anahtar yok. Sonunda sandığı kırmaya karar verirler. Sandık kırılır, öğretmen işin farkına o zaman varır. Ev sahibi kırdığı sandıktan küçük bir çıkın çıkarır, sandığın içerisinde üç şeker vardır. Evet, konuğuna şekerli kahve ikram etmek için sakladığı üç şeker.

Metinde geçen bazı kelimelerin anlamları aşağıda verilmiştir:



Bir yere veya birinin evine kısa bir süre kalmak için gelen kimse.



Birbirini kesen iki çizginin, iki düzlemin oluşturduğu açı.





Bir beze sarılarak düğümlenmiş küçük bohça.



İçine çeşitli şeyler konulan, tahtadan yapılmış, kapaklı ev eşyası.

Hangi emojinin olduğu açıklama metinde geçen herhangi bir kelimeye ait değildir?



2. Kayalar yağmur, rüzgar ya da sıcaklık değişimi gibi etkilerle içinde aşınır. Bunun sonucunda çok ilginç yer şekilleri ortaya çıkar. Bazı kayalar yer çekimine meydan okumuşçasına dengede kalır. Bazılarıysa küçük bir yerinden üzerinde durduğu kayaya bağlıdır. Bu oluşumların en güzel örneklerini ülkemizdeki Kapadokya bölgesinde görüyoruz. Ancak dünyanın başka yerlerinde de oluşumlar var.

Metinde boş bırakılan yerlere aşağıdaki sözcüklerden hangileri getirilebilir?

A) mağara - sık sık - değişik

B) zaman - bazen - benzer

C) kendi - bazen - farklı

D) toprak - çoğunlukla - aynı

3. Tamlamalar, isim tamlaması ve sıfat tamlaması olarak ikiye ayrılır

Aşağıdaki cümlelerin hangisinde farklı bir tamlama kullanılmıştır?

A) Sevgi hayatta başarılı olmanın temelini oluşturur.

B) Her sabah gazetemi mutlaka okurum.

C) Kendisine güzel bir elbise alacaktı düşün için.

D) Yağmurlu bir akşamda dışarı çıkmıştık.

4. O kadar dolu I ki toprağın şarla

Bir değil, sanki bin vatan gibisin

Yüce II dağlarına çöken dumanla

Göklerde yazılı destan gibisin

IV

Şiirde numaralandırılmış sözcüklerden hangisi isim değildir?

A) I

B) II

C) III

D) IV


5. • 1 ve 2. sözcük arasında zıt anlamlılık ilişkisi vardır.
• 1 ve 3. sözcük arasında eş anlamlılık ilişkisi vardır.

Bu açıklamaya göre aşağıdakilerden hangisinde sözcükler yanlış sıralanmıştır?

	1. Sözcük		2. Sözcük		3. Sözcük
A)	Uzak		Yakın		Irak
B)	Yarar		Zarar		Fayda
C)	Kirli		Temiz		Pis
D)	Yok		Var		Eksik

6. Hepimiz çok iyi biliyoruz ki teknolojiyle barışık olanlar ve gereçleri en iyi kullananlar yetişkinlerden çok çocuklar. Dedeler ve nineler cep telefonlarıyla mesaj gönderemiyorlar, gelen mesajları okuyamıyorlar. Telefonun yalnızca arama, yanıt verme, açma kapama fonksiyonlarını kullanıyorlar. Dedeler, nineler, ebeveynler, henüz televizyonlarda uzaktan kumanda aletleriyle kanal aramayı ve ayar yapmayı bile bilmiyorlar. Kumandaların yetenekleri de günden güne değişiyor; neredeyse yakında terliklerimizi de ayağımıza getirecekler! Bu yüzden üreticiler artık yaşlılar için yalnızca açma kapama ve ses ayarı düğmelerinin kullanılmasına izin veren kumanda kılıfları yapıyorlar. Çünkü özellikle büyükanne ve büyükbabalar düğmelere öyle gelişigüzel basıyorlar ki televizyonlar kilitleniyor, ertesi gün eve tamirci çağırarak gerekiyor.

Metinden aşağıdakilerden hangisi çıkarılamaz?

- A) Çocuklar teknolojik aletlerle yetişkinlerden daha fazla zaman geçiriyor.
B) Yaşlılar teknolojik aletleri kısmen kullanabilmektedir.
C) Teknolojik aletler her geçen gün daha da gelişmektedir.
D) Üreticiler insanların yeterliliklerini de bazen hesaba katmaktadır.
7. Meşe, toprağa çok sağlam tutunan bir bitkidir. Bunlardan çıkan kök örgüsü, dal budak meşenin sigortasıdır. Onlar sayesinde Kütükler sökülmedikçe balta, getiremez. Kışın dökülen yayvan kütüklü kök düzeniyle kurakçıl sönmüş, ölmüş sanılan alanlarda canlandırılabilir. Bunun için uzun belirtileri olan yerlerden keçiyile saklı kütüklerin filiz vermesine, gür bir artar bile.
- 
- Bastığı yerde kalın kütükler oluşturur. saldığı yeri sıkıca kucaklar. Bu kütükler nice kurak yıllara dayanıp gider. keçi, yangın meşenin sırtını yere yapraklı bir bitki olduğu halde, iklimlere dirençle karşı koyar. İyice bile kolaylıkla yeni meşe oymakları boylu emek de gerekmez. Meşe baltanın ayağını kesmek, toprakta yeşillik adasının fıçırmasına yeter de

Yukarıdaki metinden hangisi çıkarılamaz?

- A) Meşe ağacı, bulunduğu yere kökleriyle sıkıca tutunur.
B) Çevresel faktörler meşe ağacına kolay kolay zarar veremez.
C) Meşe ağacı, kurakçıl iklimlerde yetişir özellikle.
D) Keçiler meşe filizlerine zarar vermektedir.

6. Sınıf Kazanım Değerlendirme - 3

8. Yandaki görsellerle ilgili aşağıdaki cümlelerden hangisi kişisel görüş içermektedir?

- A) Adamlar kadını merakla seyretmektedir.
- B) Kadın yere oturmuş, yerde dikiş dikmektedir.
- C) Adamların arkasında yere düşmüş, bir kilim vardır.
- D) Görselde üç kişi dışında kimse yoktur.



9. Ben küçükken diğer arkadaşlarım itfaiyeci ve pilot olmak isterlerdi(I). Ama ben mucit olmak isterdim(II). Bu nedenle de bir makine icat edebilmek için makine mühendisi ya da bir ilaç keşfedebilmek için biyolog olmak istiyordum(III). Bu isteğimin arka planında insanlığa hizmet ederek tarihe geçmek arzusu vardı bende (IV).

Metinde numaralandırılmış cümlelerden hangisinde amaç-sonuç ilişkisi vardır?

- A) I
- B) II
- C) III
- D) IV

10. Ebru sanatı en eski Türk kağıt süsleme sanatlarından biridir (I). Ebru yapmak için kullanılan boyalar renkli topraklardan ya da bitkilerden elde edilir (II). Boyalar el taşı denilen bir mermer parçasıyla ezilerek toz haline getirilir (III). Boyaların ebru sıvısı üzerinde kalması ve düzgün bir şekilde yayılması için özel bir sıvı olan öd sıvısı boyaların içine belirli ölçülerde eklenir (IV).

Metinde kaç numaralı cümlede zamir kullanılmıştır?

- A) I
- B) II
- C) III
- D) IV

11. Kırlara gidiyorum

Elimde uçurtmam
I
Kuşlar bekliyor gökte
II
Çünkü uçurtmamda

Kuş resimleri var

Canlanacaklar
III

Ben uçurunca
IV

Bu dizelerde numaralanmış sözcüklerle ilgili aşağıdakilerden hangisi yanlıştır?

- A) I.sözcükte iyelik eki ve hal eki kullanılmıştır.
- B) II.sözcük yapıcı basittir.
- C) III.sözcük çokluk eki almıştır.
- D) IV.sözcük yapıcı türemiştir.

12. Nice sultanları tahttan indirdi
Nicesinin gül benzini soldurdu
Nicelerin gelmez yola gönderdi
Bir ayrılık bir yoksulluk bir ölüm

Bu dördükte yer alan benzetmenin benze-yen ve benzetilen unsurları hangisinde doğ-ru verilmiştir?

	Benzeyen	Benzetilen
A)	Yol	Ölüm
B)	Beniz	Gül
C)	Sultan	Gül
D)	Yol	Ayrılık

13 ve 14. soruları metne göre cevaplayınız.



1. Menü



2. Menü



3. Menü

Nermin, Beyza, Ekrem, Şule ve Bahar bir lokantada yemeğe gitmişlerdir. Lokantada sadece üç menü vardır.

- Menülerde değişiklik sadece çorbalarda yapılmaktadır.
- Herkes yalnızca bir menü alacaktır.
- Beyza tavuk yememektedir.
- 2. menü sadece 1 kişi tarafından seçilmiştir.
- Şule kola içmemiştir.
- Ekrem sütlü tatlı yememiştir, menüdeki çorbasını içmiştir.
- Bahar sütlâç yiyecektir fakat çorbasını değiştirecektir.

13. Buna göre, aşağıdakilerden hangisi kesin olarak yanlıştır?

- A) Beyza baklava yemiştir.
- B) Şule tavuk döner yemiştir.
- C) Ekrem tavuk çorbası içmiştir.
- D) Nermin meyve suyu içmiştir.

14. Menüleri kimlerin tercih ettiğiyle ilgili eşleştirmelerinden hangisi yanlıştır?

- A) 1. Menü- Beyza
- B) 2. Menü- Bahar
- C) 3. Menü- Şule
- D) 1. Menü- Nermin

15. Fransa 'da bulunan Lascaux Mağarası' nda günümüzden yaklaşık 17.000 yıl önce yaşamış insanlar tarafından yapıldığı tahmin edilen mağara resimleri var.

Yukarıdaki cümleden aşağıdakilerden hangisi kesin olarak çıkarılabilir?

- A) Lascaux Mağarası günümüze kadar sapsağlam kalabilmiştir.
- B) Mağarada bulunan resimler uzun uğraşlar sonucunda yapılmıştır.
- C) 17.000 yıl öncesinde de insanlar resim sanatına ilgi duyuyorlardı.
- D) Mağaradaki resimlerin kimin tarafından yapıldığı ile ilgili kesin bilgi yoktur.

SOSYAL BİLGİLER

Bu testte 10 soru vardır. Cevaplarınızı optik formdaki "Sosyal Bilgiler" bölümüne kodlayınız.

1.



Merhaba arkadaşlar benim adım Mert. Annem, babam ve kardeşim ile birlikte İstanbul'da yaşıyorum. İlkokul 4. sınıfa giderken okul futbol takımına katıldım. Ancak futbol takımında yeterli başarıyı elde edemediğim için bu sene okul fotoğraf kulübüne üye oldum. Bu kulübün çalışmalarını için hafta sonları çevremdeki ilginç olayları çekiyorum.

Buna göre, Mert ile ilgili olarak aşağıdakilerden hangisi söylenemez?

- A) Rollerini yeteneklerine göre zamanla değiştirmiştir. B) Bulunduğu gruplara ona sorumluluk yüklemiştir.
C) Evlatlık rolünü doğuştan kazanmıştır. D) Sahip olduğu tüm roller de başarılı olmuştur.

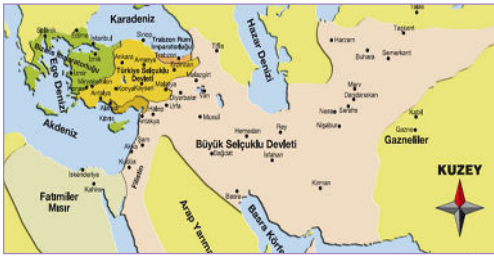
2. Ülkemizde;

- Güneyinden kuzeyine güneş ışınlarının düşme açısı daraldığı için, sıcaklık azalır.
- Dağların güney yamaçları güneşe dönük olduğu için daha sıcaktır.
- Kuzeyden esen rüzgarlar sıcaklığı düşürürken güneyden esen rüzgarlar artırır.

Buna göre, aşağıdaki yargılardan hangisi söylenemez?

- A) Güney yamacı bakı etkisi altındadır.
B) Güney yamaçlarında nüfus ve yerleşim artmıştır.
C) Güney yamacındaki bitkiler daha çabuk olgunlaşır.
D) Kuzey yamacındaki karlar daha çabuk erir.

3.



Bu haritaya göre, Büyük Selçuklular ile ilgili aşağıdakilerden hangisine ulaşılamaz?

- A) Anadolu'da bir Türk devleti kurulmuştur.
B) İslam dünyasının bazı kutsal yerlerini almışlardır.
C) Balkan Yarımadası'nı ele geçirmişlerdir.
D) Gazneliler ile aynı dönemde yaşamışlardır.

4. Bumin Kağan, I. Kök Türk Devleti'ni kurduktan sonra kendisi ülkenin doğusunu kardeşi İstemi Yabgu ise batısını yönetti. Devleti ilgilendiren ortak konular da aynı kurultayda toplanmış ve ortak hareket etmişlerdir. Ülke hükümdarı ve ailesinin ortak malıydı. Hükümdar olduktan sonra hükümdar soyundan gelen herkes başa geçmek için mücadele edebilirdi.

Buna göre, Kök Türkler ile ilgili aşağıdakilerden hangisine ulaşılamaz?

- A) İkili yönetim uygulamışlardır.
B) Taht kavgalarını önlemeye çalışmışlardır.
C) Hanedan üyeleri kurultaya katılabilmişlerdir.
D) Kut inancına sahiplerdir.

5. Doğu illerimizde yükseltinin fazla olması da kış turizmini ve hayvancılık faaliyetlerini olumlu etkilemiştir. Hayvancılığın gelişmesi et ve süt ürünlerine bağlı tesislerin açılmasını sağlamıştır. Akdeniz ve Ege kıyılarımızda iklimin elverişli olması seracılık ve yaz turizminin gelişmesini sağlamıştır.

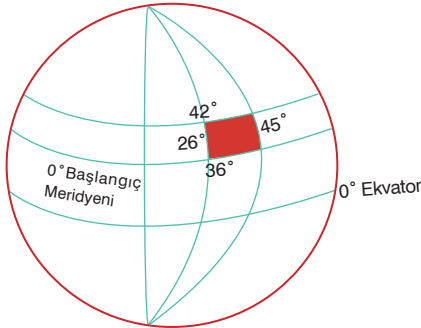
Buna göre, aşağıdaki yargılardan hangisine ulaşılamaz?

- A) Yükseltinin az olduğu yerlerde hayvancılık gelişmemiştir.
B) Bir bölgenin ekonomik yapısı coğrafi özelliklerinden eklenmektedir.
C) Doğal çevre koşulları üretim faaliyetlerini etkilemektedir.
D) Ülkemizdeki iklim çeşitliliği hem yaz hem de kış turizminin yapılmasını sağlamaktadır.

6. Ekvatorial iklimin görüldüğü yerlerde gür ormanların olması insanların evlerini ahşaptan yapmalarına neden olmuştur. İnsanlar ihtiyaçlarını tarım, hayvancılık ve orman ürünlerini satarak karşılamaktadır. Kakao, kauçuk, muz, ananas, şeker kamışı ve ağaçlardan elde edilen kereste önemli gelir kaynağıdır. İnsanlar, nehirlerde sallar vasıtasıyla ulaşımı kolayca sağlarlar. Bölgenin sıcak olması giysi ihtiyacını azaltmıştır.

Buna göre, Ekvatorial iklimle ilgili aşağıdaki bilgilerden hangisi yanlış verilmiştir?

- A) Konut yapımında doğal çevredeki malzemeler kullanılmaktadır.
- B) Kışları yağışlı yazları kurak geçmektedir.
- C) Orman ürünlerine dayalı ekonomik faaliyetler yapılmaktadır.
- D) İnsanlar yaşantılarını iklim koşullarına göre şekillendirmiştir.
7. Aşağıdaki şekilde Türkiye'nin Dünya üzerindeki yeri taranarak gösterilmiştir.



Bu şekile bakılarak Türkiye ile ilgili aşağıdakilerden hangisi söylenemez?

- A) Ekvator'un kuzeyinde yer alır.
- B) Kuzeyinden geçen paralelin boyu güneyinden geçenden daha uzundur.
- C) Kuzeyi ile güneyi arasında 666 km'lik uzunluk vardır.
- D) Doğusu ile batısı arasında 76 dk'lık zaman farkı vardır.

8. İlk Müslüman Türk devletlerinde İslamiyet'in yayılmasıyla birlikte cami, medrese, türbe yapımı da başlamış, Karahanlılar ilk Türk medreselerini inşa etmişlerdir.

Verilen metinde

- I. Kültür
II. Ekonomi
III. Bilim

alanlarından hangilerine değinilmiştir?

- A) Yalnız I. B) I ve II.
C) I ve III. D) I, II ve III.

9. Aşağıdakilerden gelişmelerden hangisi Anadolu'nun Türkler tarafından sosyal ve kültürel yönden Türkleştirilmesinin göstergesidir?

- A) Ülkenin hanedan üyelerinin ortak malı sayılması
- B) Şer'i hukuk sisteminin uygulanması
- C) Toplumun ihtiyaçlarını gidermek için vakıfların kurulması
- D) Deniz ticaretinin geliştirilmesi

- 10.

Dört Halife Dönemi	Emeviler Dönemi
Halifeler bir çeşit seçim yoluyla belirlenmiştir.	Babadan oğula geçen saltanat modeli uygulanmıştır.
Bütün Müslümanlar eşit kabul edilmiştir.	Arap milliyetçiliği politikası izlenmiştir.

Tabloya bakarak aşağıdaki yargılardan hangisi söylenemez?

- A) Dört halife Dönemi'nde cumhuriyet sistemi uygulanmıştır.
- B) Emeviler Dönemi'nde eşitlik anlayışına dikkat edilmemiştir.
- C) Emeviler Dönemi'nde egemenlik anlayışı değişmiştir.
- D) Emeviler Dönemi'nde evrensel hükümler benimsenmiştir.

DİN KÜLTÜRÜ VE AHLAK BİLGİSİ

Bu testte 10 soru vardır. Cevaplarınızı optik formdaki "Din Kültürü ve Ahlak Bilgisi" bölümüne kodlayınız.

1. İslam dini bir arada hareket etmeyi teşvik ederek namazların bir arada kılınmasının daha çok sevap olacağını belirtmiştir. Bu yüzden cemaatle kılınan namazlar tek başına kılınan namazlardan daha sevaptır. Aynı mahallede oturan insanlar cemaatle namaz kılmak için camide bir araya geldiklerinde birbirlerinden haberdar olurlar. Birbirlerinin sıkıntılarını paylaşıp dertleşme imkanı bulurlar. Böylece İslam'ın kardeşlik dini olduğu bu şekilde belli olur.

Bu metinde aşağıdaki sorulardan hangisinin cevabı vardır?

- A) Namaz hangi niyetle kılınmalıdır?
B) Namazın bireye faydaları nelerdir?
C) Hükümlerine göre namaz çeşitleri nelerdir?
D) Cemaatle namazın faydaları nelerdir?

2. "O mihrapta namaz kılarken, melekler ona seslendi: "Allah, sana Yahya'yı müjdeler. O, Allah'tan olan bir kelimeyi (İsa'yı) doğrulayan, efendi, iffetli ve salihlerden bir peygamberdir." (Al-i İmran Suresi, 39. ayet)

Verilen ayette Hz. Yahya (a.s.) ile müjdelenen peygamber aşağıdakilerden hangisidir?

- A) Hz. Zekeriya (a.s.) B) Hz. Musa (a.s.)
B) Hz. İsmail (a.s.) C) Hz. Yakup (a.s.)

3. • Hz. İsa'ya (a.s.) gönderilen ilahi kitabın adıdır.
• Yeni Ahit (Ahd-i Cedid) adıyla da bilinmektedir.
• Matta, Markos, Luka ve Yuhanna olmak üzere farklı çeşitleri vardır.

Buna göre, özellikleri verilen kutsal kitap aşağıdakilerden hangisidir?

- A) Suhuf B) Tevrat
C) İncil D) Zebur

4. "Ey iman edenler, namaza kalktığınız zaman yüzlerinizi ve dirseklere kadar ellerinizi yıkayın, başlarınızı meshedin ve her iki topuğa kadar ayaklarınızı da (yıkayın.) Eğer cünüpseniz temizlenin; eğer hasta veya yolculukta iseniz ya da biriniz ayak yolundan (hacet yerinden) gelmişse yahut kadınlara dokunmuşsanız da su bulamamışsanız, bu durumda, temiz bir toprakla (hafifçe) yüzlerinize ve ellerinize ondan sürün." (Maide suresi, 6. ayet)

Verilen ayette aşağıdakilerden hangisine değinilmemiştir?

- A) Teyemmüm B) Namaz abdesti
C) Kamet D) Gusül abdesti

5. "Müjdeleyiciler ve uyarıcılar olarak peygamberler gönderdik ki, peygamberlerden sonra insanların Allah'a karşı bir bahaneleri olmasın... (Nisa suresi, 165. ayet)

Verilen ayetten peygamberler ile ilgili aşağıdakilerden hangisine ulaşılamaz?

- A) Allah (c.c.) tarafından görevlendirildiklerine
B) Her topluluğa gönderildiklerine
C) İnsanları doğruluğa yönlendirdiklerine
D) Bir amaç için gönderildiklerine

6. • Namazda örtülmesi gereken yerleri örtmek.
• Namazda, secdeye gitmeden önce elleri dizlere koyarak yere paralel şekilde eğilmek.
• Namazda gereken yerlerde ayakta durmak.
• Namazda gereken yerlerde Kur'an'dan sure veya ayet okumak.

Verilen bilgilerle aşağıdaki kavramlar eşleştirildiğinde hangisi dışarıda kalır?

- A) Kıraat B) Setr-i Avret
C) Kade-i Ahire D) Kıyam

7. "Rahman, Rahim olan Allah'ın adıyla. Rabb'inin, fil sahiplerine ne yaptığını bilmedin mi? Onların tuzaklarını boşa çıkarmadı mı? Onların üzerine sürü sürü kuşlar gönderdi, o kuşlar, onların üzerine gökten taş yağdırıyordu ve böylece onları çiğnenmiş ekin yaprakları gibi paramparça yapıverdi." (Fil suresi)

Bu surede aşağıdakilerden hangisine değinilmemiştir?

- A) Fil ordusunun helak olduğuna
B) Allah'ın (c.c.) müşriklerin tuzaklarını boşa çıkardığına
C) Mutlak galibin Allah (c.c.) olduğuna
D) Rızkı verenin Allah (c.c.) olduğuna
8. "...O (Kur'an), Allah'ın sağlam ipidir. Ona yapışan hidayet yolunu bulur." (Hadis-i Şerif)

Aşağıdaki ayetlerden hangisi verilen Hadis-i Şerif ile ilişkilendirilemez?

- A) "Kur'ân'dan kolayınıza geleni okuyun" (Müzzemmil suresi, 20. ayet)
B) "Bunlar, iyi davranan kimseler için rahmet ve doğru yol rehberi olan hikmetli Kitap'ın ayetleridir." (Lokman suresi, 2-3. ayetler)
C) "Andolsun, öğüt alsınlar diye biz bu Kur'an'da insanlar için her türlü misali verdik." (Zümer suresi, 27. ayet)
D) "İşte bu, o Kitab'dır ki, onda şüphe yoktur. Takva sahipleri için bir hidâyettir." (Bakara suresi, 2. ayet)
9. "Gündüzün iki tarafında ve gecenin gündüze yakın vakitlerinde namaz kıl. Çünkü iyilikler kötülükleri giderir..." (Hud suresi, 114. ayet)

Bu ayetin mesajını destekleyen hadis aşağıdakilerden hangisidir?

- A) Her kim bir namazı unuttur veya ondan gaflet edip uyuya kalırsa onu hatırladığında hemen kılsın.
B) Büyük günahlar işlenmedikçe kılınan beş vakit namaz arası ile iki Cuma arasında işlenen küçük günahlara keffarettir.
C) İki serinlik namazını, sabah ve ikindiye kılan kimse cennete girer.
D) Gerçekten kişi ile şirk ve küfür arasında namazı terketmek vardır.
10. "Hani Rabbin meleklerle, "Ben yeryüzünde bir halife yaratacağım" demişti. Onlar "Biz seni övgü ile tesbih ederken ve senin kutsallığını dile getirip dururken orada fesat çıkaracak ve kan dökecek birini mi yaratacaksın?" dediler. Allah ise "Şüphe yok ki, ben sizin bilmediklerinizi bilirim" buyurdu." Ve Adem'e isimlerin hepsini öğretti. Sonra onları meleklerle yöneltti: "Eğer doğru sözlüyseniz, bunları bana isimleriyle haber verin" dedi." (Bakara suresi, 30-31. ayet) Allah'ın (c.c.) yanında bulunan melekler Hz Adem'in (a.s.) üstün özelliklerini görünce şaşırıp kaldılar. "Yâ Rab! Seni noksan sıfatlardan tenzih ederiz, Senin bize öğrettiklerinden başka bizim ilmimiz yoktur. Şüphesiz alim olan/her şeyi bilen ve hakim olan her yaptığında hikmet olan Sensin" dediler. (Bakara suresi, 32. ayet)





Verilen metin ve ayetlerden aşağıdaki yargılardan hangisine ulaşamaz?

- A) İnsan yaratılmadan önce melekler yaratılmıştır.
B) Yüce Allah (c.c.) Hz. Adem'e (a.s.) bütün isimleri öğretmiştir.
C) Yeryüzünde yaratılan ilk insan Hz Adem'dir. (a.s.)
D) Allah (c.c.) Melekleri insanlardan daha üstün yaratmıştır.

İNGİLİZCE

Bu testte 10 soru vardır. Cevaplarınızı optik formdaki "İngilizce" bölümüne kodlayınız.

1.

PARIS NOW	Monday	Tuesday	Wednesday
			
7 °C	17 °C	23 °C	30 °C

How is the weather in Paris on Wednesday?

- A) It is cold and rainy. B) It is cold and cloudy
C) It is hot and sunny. D) It is hot and cloudy

2. – Hello! My name is Isabella. I am from England. My favorite meal is breakfast. We have a classic English breakfast. At the breakfast, I eat fried eggs with toasts and beans with sausages.

Which of the following pictures match the information above?



3.

I think fun fair is awesome. I really enjoy bumper cars. But I don't like wave swinger.

I love danger. Roller coaster is exciting. But I think ghost train is frightening.

Ghost train is my favorite. It is really exciting and thrilling.



Jay Terry Dylan

Which of the following IS NOT correct according to the conversation?

- A) Terry thinks the fun fair is awesome. B) Dylan loves danger, so she thinks roller coaster is exciting.
C) Terry's favorite one is bumper cars. D) Terry doesn't like wave swinger.

4.



Which of the following DOES NOT match the pictures above?

- A) We are going to the cinema to watch Avengers.
 - B) My brother broke his leg. So, we went to the hospital.
 - C) Last summer, I went to Paris and visited The Louvre Museum.
 - D) I will withdraw some money from the bank for my vacation.
5. Hello! I am Tina. I am 12 years old. I am from Scotland. On weekdays, I always get up at 8.00 and I wash my face. Then, I have breakfast at 8.15 and I leave home at 9.00. My classes start at 9.30.



According to the text, Tina at 8.15?

- A) get up
- B) washes her face
- C) has breakfast
- D) leaves home

6.

	Omelet	Cheese	Cereals	Sausage	Olive
Emma	✓	✓			
Jane		✓		✓	✓
Riley			✓		
Toby		✓	✓		✓

According to the table, which is CORRECT?

- A) Toby likes eating cheese, cereals and olive at the breakfast.
- B) Jane likes eating omelet and olive at the breakfast.
- C) Emma likes eating cheese and sausage at the breakfast.
- D) Riley likes eating omelet and cereals at the breakfast.

7.



Brian

My favorite fun ride is big wheel. Every time when I go to the funfair, I want to ride on it. I really love it.

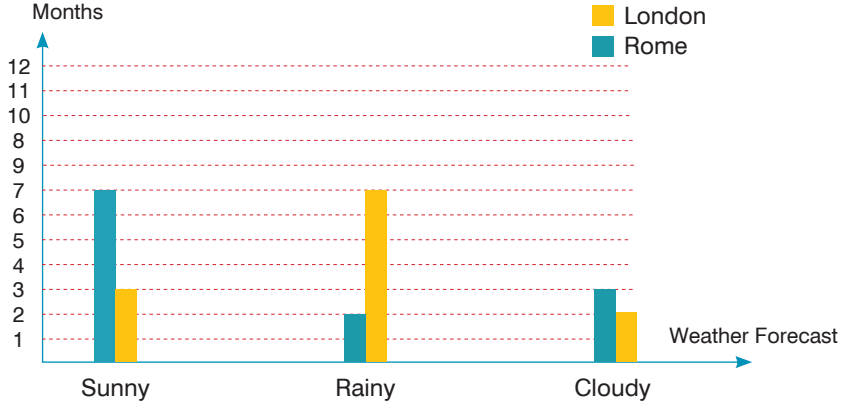
Which picture shows Brian's favorite fun ride?

- A) 
- B) 
- C) 
- D) 

A

6. Sınıf Kazanım Değerlendirme - 3

8.



According to the results, which IS NOT correct?

- A) 7 months of a year, it's sunny in Rome. B) 2 months of a year, it's cloudy in London.
 C) 3 months of a year, it's cloudy in Rome. D) 3 months of a year, it's rainy in London.

9. Bethany : Hi Miley! Are you busy on Saturday?

Miley : Hello Bethany! No, I am free on Saturday. Do you have a plan?

Bethany : Yes, I am going to buy a present for my sister's birthday. So, I will go to the

Would you like to come with me?

Miley : Yes, it would be great.

Bethany : Okay, See you on Saturday.

Which of the following completes the conversation?

- A) a cafe B) hospital C) cinema D) shopping mall

10.

	Tom	Helen	Steven	Michael
Ghost train			✓	
Big wheel	✓			
Bumper car				✓
Roller coaster		✓		

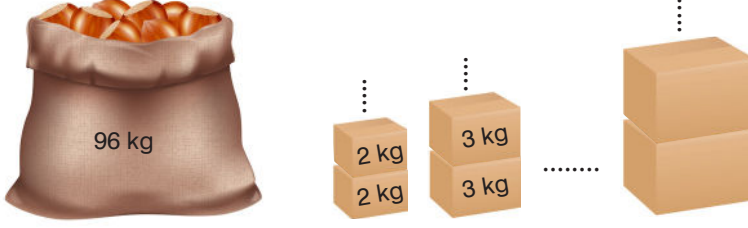
According to the table, which option is CORRECT?

- A) Michael's favorite fun ride is bumper car. B) Helen doesn't like roller coaster.
 C) Steven's favorite fun ride is big wheel. D) Tom likes ghost train a lot.

MATEMATİK

Bu testte 15 soru vardır. Cevaplarınızı optik formdaki "Matematik" bölümüne kodlayınız.

1.



Yaşar bey bahçesinden topladığı 96 kg fıncığı eşit kütleli poşetlere koyup, bu poşetleri de en az 2 kg ve en fazla 20 kg kapasiteli kolilere yerleştirip kargolamak istemektedir.

Koliler kg cinsinden bir doğal sayı belirtecek kapasiteye sahip ve tamamı doldurulacak şekilde kullanılmaktadır.

Buna göre, Yaşar bey bu iş için en fazla kaç farklı çeşitte koli kullanabilir?

A) 5

B) 6

C) 7

D) 8

2. Bir otobüs yolcularının $\frac{3}{7}$ 'si erkektir. İlk durakta otobüsten 5 erkek inince kalan erkeklerin sayısı 25 olduğuna göre, başlangıçta otobüsteki toplam yolcu sayısı kaçtır?

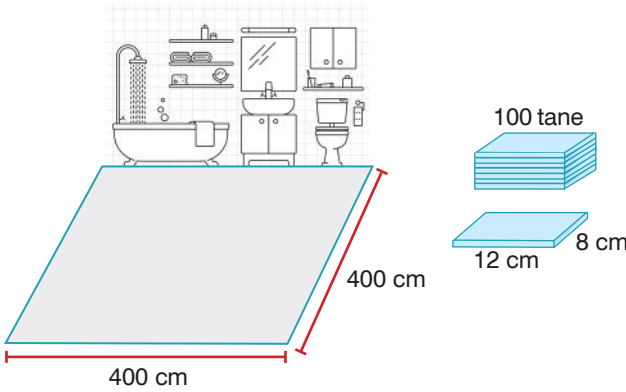
A) 70

B) 77

C) 84

D) 91

3.



Akif Bey bir kenarı 400 santimetre uzunluğunda karesel bölge olan banyosunun zeminine elinde 100 adet bulunan fayanslarla bir çalışma yapmak istemektedir.

Bunun için özel bir yapıştırıcı ile kenar uzunlukları 8 santimetre ve 12 santimetre olan fayanslardan en az sayıda kullanarak kare şeklinde bir desen yapmıştır.

Buna göre, Akif Bey bu deseni kullanarak banyosunun zemininde kenar uzunlukları farklı kaç çeşit kare oluşturabilir?

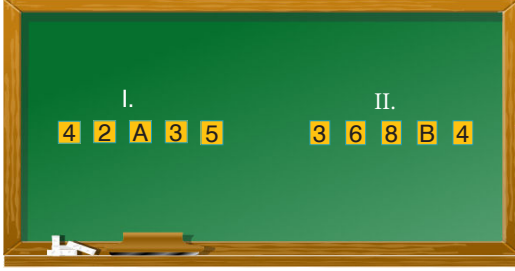
A) 4

B) 6

C) 10

D) 16

6. Ayşe öğretmen tahtaya iki grup çıkartma yapıştırıyor.



Oluşan iki sayı ile ilgili şu bilgileri veriyor.

- I. ve II. grupta 5 basamaklı iki sayı oluşuyor.
- I. gruptaki sayı 3'ün katı fakat 9'un katı değildir.
- II. gruptaki sayı 4'ün katı fakat 3'ün katı değildir.

Buna göre, A ve B çıkartmalarının yerine gelebilecek rakamlar düşünüldüğünde oluşturulabilecek iki basamaklı AB sayısı en fazla kaç olabilir?

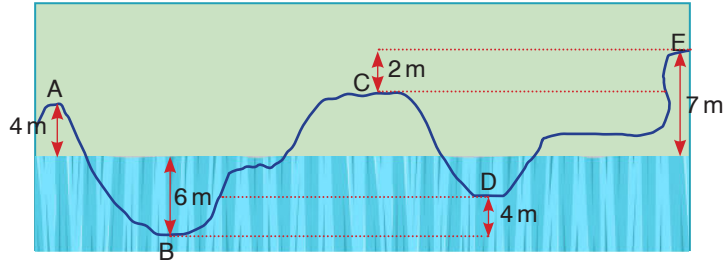
A) 67

B) 78

C) 89

D) 96

7.



Yukarıdaki görselde deniz seviyesine göre yükseltiler ve derinlikler verilmiş ve bunlara ait mesafeleri gösteren tablo oluşturulmuştur.

Nokta	Derinlik ve Yüksekliğin Tamsayı Karşılığı (m)
A	+4
B	-6
C	+5
D	+2
E	+7

Deniz seviyesi sayı doğrusunda başlangıç noktasını gösterdiğine göre, tabloda tamsayı karşılığı yanlış verilen nokta hangisidir?

A) E


B) D

C) B

D) A

6. Sınıf Kazanım Değerlendirme - 3

8. Şekildeki; kovanın $\frac{3}{5}$ 'ü su ile dolu ve sūrahi tam dolu iken 1500 ml su alabilmektedir.



Sūrahi; iki sefer tamamen doldurulup içindeki suyun tamamı kovaya boşaltılınca, kovanın tamamı doluyor.

Buna göre, kovanın tamamı kaç ml su alır?

- A) 6000 B) 6500 C) 7000 D) 7500
9. Bir toplu konuttaki 35 apartmanın daire sayılarına göre sınıflandırılması aşağıdaki tabloda verilmiştir.

Apartman Sayısı	Bir Apartmandaki Daire Sayısı
5	40
8	24
10	20
12	16

Muhtarlık seçimlerine hazırlanan Murat Bey bu toplu konuttaki her daire için broşür bastırıp posta kutularına bırakmak ve bu işi seçime kadar üç kere tekrarlamak istemektedir.

Murat Bey, her bir daire için her defasında bir tane broşür bırakırsa seçime kadar toplam kaç broşür bırakmış olur?

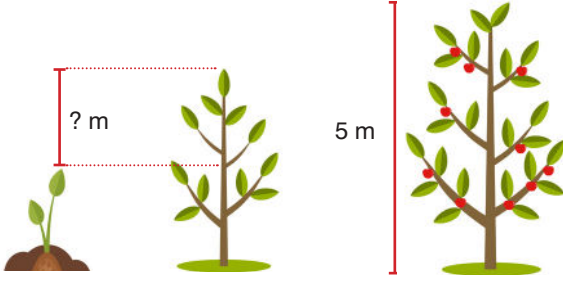
- A) 2352 B) 2428 C) 2584 D) 2646
- 10.

		Bölen	
		$\frac{1}{2}$	$1\frac{1}{4}$
Bölünen	\div	K	L
	$\frac{2}{3}$	M	N
	16		

Yukarıda verilen bölme işlemi tablosuna göre aşağıdakilerden hangisi yanlıştır?

- A) $K = \frac{4}{3}$ B) $L = \frac{8}{15}$ C) $M = \frac{1}{32}$ D) $N = \frac{64}{5}$

11.



Ceylin bahçesine $\frac{3}{5}$ metre boyunda bir fidan dikiyor. Bir ay sonra diktiği fidanın boyunu ölçtüğünde $\frac{4}{3}$ metre olduğunu görüyor.

Bu fidan her ay eşit miktarda uzadığına göre, kaç ay sonra 5 metre uzunluğunda bir ağaç olur?

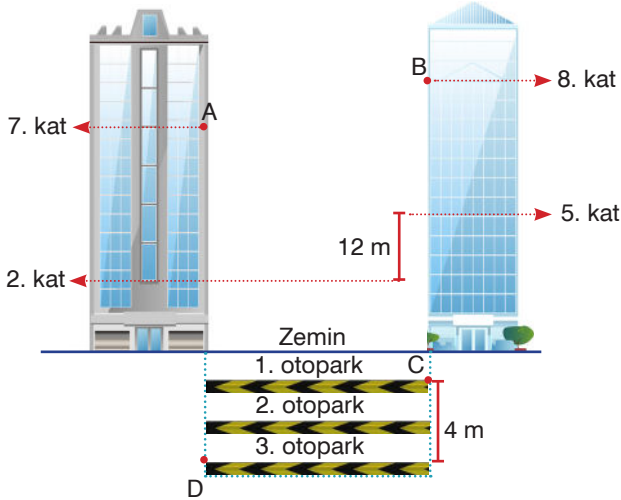
A) 5

B) 6

C) 7

D) 8

12.



Binaların zemin üstündeki her bir katı eşit yüksekliktedir. Ayrıca zemin altındaki otopark katları da kendi aralarında eşit yüksekliktedirler.

Yukarıda iki bina ve zemin altındaki otoparklar verilmiştir.

Buna göre aşağıdakilerden hangisi A, B, C ve D noktalarında bulunan kişilerin zemine göre konumlarını gösteren tam sayı karşılıklarından herhangi biri olamaz?

A) +32

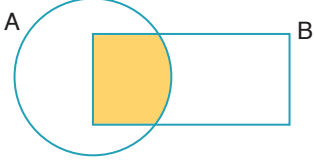
B) +28

C) -4

D) -6

6. Sınıf Kazanım Değerlendirme - 3

13.



Ayhan 210 sayısının tüm asal çarpanları ile A kümesini oluşturuyor.

Zeynep 110 sayısının tüm asal çarpanları ile B kümesini oluşturuyor.

Bu iki kümenin venn şeması, şekildeki gibi çizildiğinde taralı bölgeyi ifade eden küme aşağıdakilerden hangisidir?

A) {3}

B) {7}

C) {2, 5}

D) {3, 11}

14. Fırat'ın 12 tane cevizi, Ayşe'nin 18 tane cevizi vardır. Veli'nin ise Fırat ve Ayşe'nin ceviz sayılarının katı olan bir sayı kadar cevizi vardır.

Veli'nin 100 taneden fazla cevizi olduğuna göre, Veli'nin en az kaç tane cevizi vardır?

A) 108

B) 120

C) 132

D) 144

15.

Sayı	7	14	49	27
Çarpanları	1, 7	1, 2, 7, 14	1, 7, 49	1, 3, 6, 27

Yukarıdaki tabloda bazı sayılar ve bu sayıların çarpanları verilmiştir.

Verilen bu tabloya göre, hangi sayının bir çarpanı yanlış yazılmıştır?

A) 7

B) 14

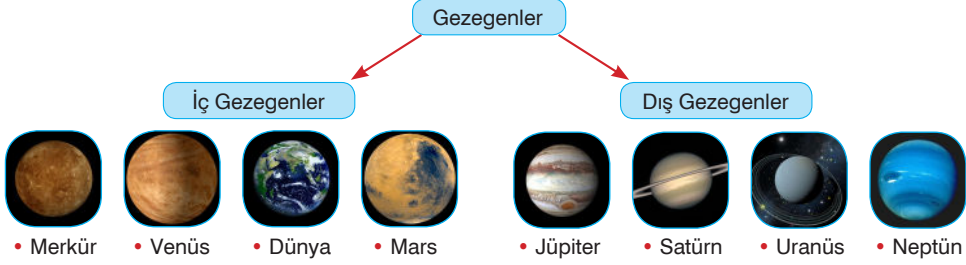
C) 49

D) 27

FEN BİLİMLERİ TESTİ

Bu testte 15 soru vardır. Cevaplarınızı optik formdaki "Fen Bilimleri" bölümüne kodlayınız.

1. Gezegenlerin aşağıdaki gibi gruplandırıldığını öğrenen Semih, bu gruplamanın hangi farklılıklara göre yapıldığını merak etmiş ve araştırmıştır.



Araştırma sonucuna göre, Semih'in öğrendiği aşağıda verilen farklılıklardan hangisi yanlıştır?

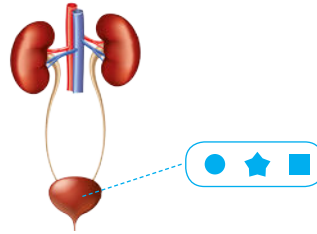
İç Gezegener

- A) Karasal gezegenlerdir.
B) Yörüngeler arası mesafeler birbirine yakındır.
C) Halkaları yoktur.
D) Tamamında uydu sayıları azdır.

Dış Gezegener

- Gazsal gezegenlerdir.
Yörüngeler arası mesafeler birbirine uzaktır.
Halkaları vardır.
Tamamında uydu sayıları çoktur.

2. Kanla böbreklerimizden gelen atık maddeler burada süzülür. Süzülme sonunda atık maddeler fazla su ile birlikte idrar şeklinde vücuttan atılır.



Sağlıklı bir insanın mesanesindeki idrarı incelendiğinde ●, ★ ve ■ sembolleri ile gösterilen maddelere rastlanıyor.

Buna göre, bu maddelerle ilgili yapılan aşağıdaki eşleştirmelerden hangisi doğrudur?

- | | | |
|-------------------|---------|---------|
| ● | ★ | ■ |
| A) Tuz | Vitamin | Mineral |
| B) Karbondioksit | Vitamin | Mineral |
| C) Vitamin | Tuz | Safra |
| D) Besin atıkları | Tuz | Mineral |

6. Sınıf Kazanım Değerlendirme - 3

3. Aşağıda zararlı maddelerin vücudumuzdan uzaklaştırılmasını sağlayan bazı organların resimleri verilmiştir.



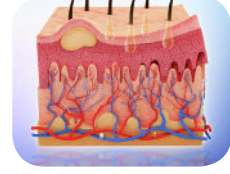
Akciğer



Böbrek



Kalın bağırsak



Deri

Buna göre, bu organların boşaltımdaki görevleri ile ilgili yapılan aşağıdaki yorumlardan hangisi yanlıştır?

- A) Vücudumuzdaki fazla suyun atılmasında dört organ da görev alır.
B) Akciğerlerimiz ile karbondioksit vücudumuzdan uzaklaştırılır.
C) Vücudumuzdaki fazla tuzun atılmasında böbreklerimiz ve akciğerlerimiz görevlidir.
D) Kalın bağırsaklarımız besin atıkları ile beraber safrayı da atar.

4. Fen bilimleri öğretmeni sınıfta şekildeki resimleri öğrencilerine göstermiş ve bununla ilgili defterlerine Güneş, Dünya ve Ay'ın konumlarını gösteren çizimler yapmalarını istemiştir.

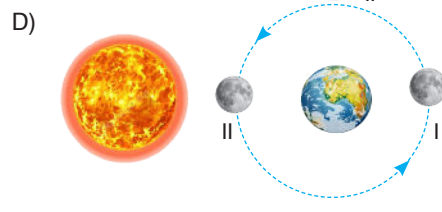

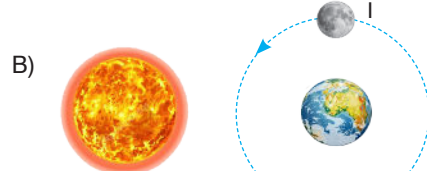



Ay tutulması (I)



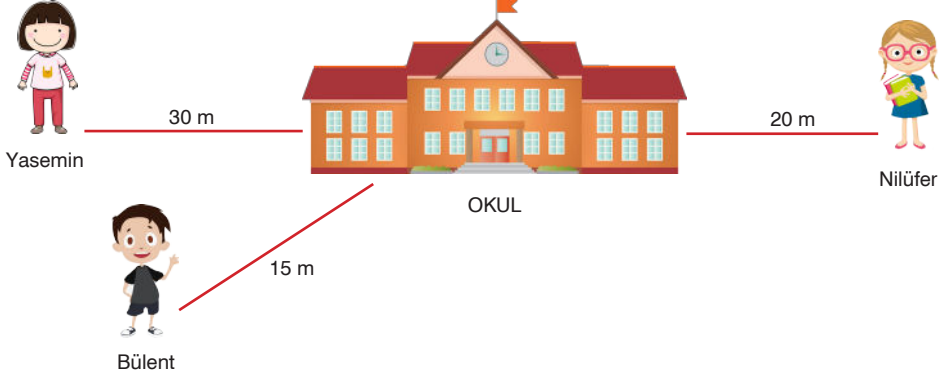
Güneş tutulması (II)

Buna göre öğrencilerin yaptığı aşağıdaki çizimlerden hangisi Ay ve Güneş tutulmasını gösterir?



6. Sınıf Kazanım Değerlendirme - 3

8. Evlerinden okula yürüyerek giden öğrencilerden Yasemin'in sürati 6 m/s, Bülent'in sürati 5 m/s ve Nilüfer'in sürati ise 2 m/s'dir.



Buna göre, aynı anda evden çıkan öğrencilerin okula varış sıraları aşağıdakilerden hangisi gibi olur?

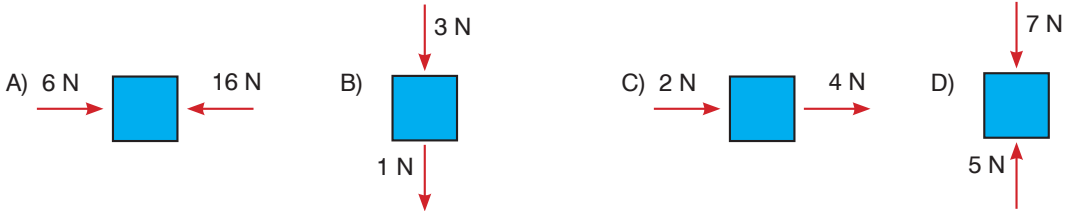
- A) Bülent, Yasemin, Nilüfer
B) Nilüfer, Yasemin, Bülent
C) Yasemin, Nilüfer, Bülent
D) Nilüfer, Bülent, Yasemin

- 9.

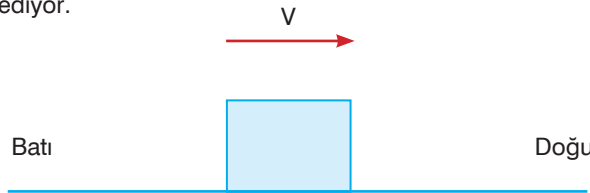
CİSİM	Doğrultusu	Yönü	Büyüklüğü
1	Kuzey-Güney	Güney	2 N
2	Doğu-Batı	Batı	10 N
3	Doğu-Batı	Doğu	6 N

Yandaki tabloda üç farklı cisme etki eden bileşke kuvvetlerin özellikleri verilmiştir.

Buna göre aşağıdaki cisimlerden hangisine etki eden bileşke kuvvetin özelliği tabloda bulunanlardan **farklıdır**?



10. Sürtünmesiz ortamda sabit süratle doğuya doğru ilerleyen bir cisme doğu-batı doğrultusunda 5 N, 8 N ve 12 N'luk kuvvetler etki ediyor.



Cisim yavaşlamaya başladığına göre, bu cisme etki eden bileşke kuvvet ile ilgili aşağıdakilerden hangisi **söylenemez**?

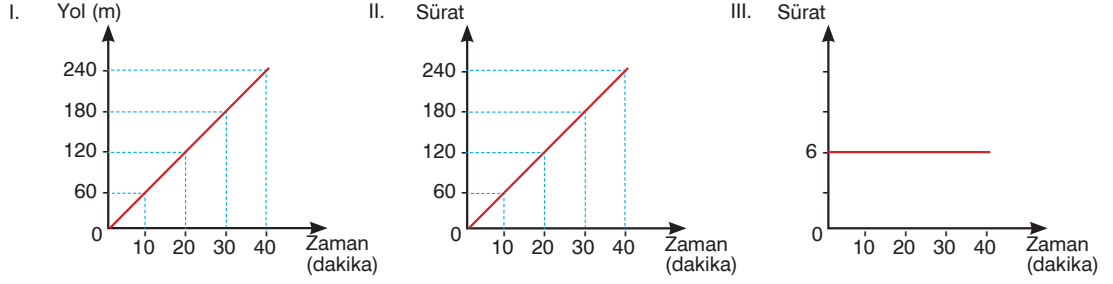
- A) Batı yönünde ve 6 N büyüklüğündedir.
B) Batı yönünde ve 9 N büyüklüğündedir.
C) Batı yönünde ve 15 N büyüklüğündedir.
D) Batı yönünde ve 1 N büyüklüğündedir.

11. Aşağıda bir bisikletlinin sürüşü sırasında aldığı yol - geçen zaman ile ilgili bazı bilgiler verilmiştir.

- 10 dakikada 60 m yol almıştır.
- 20. dakikadaki sürati 6 m/dk'dır.
- 180 metrelik mesafeyi 30 dakikada almıştır.



Bu bilgilere göre aşağıda verilen;



grafiklerden hangisi ya da hangileri doğrudur?

- A) Yalnız II B) I ve III C) II ve III D) I, II ve III
12. Doktorlar ağızdan nefes almak yerine, burundan nefes almanın daha sağlıklı olduğunu belirtmektedir. Buna göre, aşağıda verilenlerden hangisi burundan nefes almanın faydalarındandır?

- A) Havadaki gazların dış minesine zarar vermesi
 B) Ağızdaki tükürüğün mukusa göre daha çabuk kirlenmesi
 C) Burundaki mukusun havadaki toz ve mikropları tutması
 D) Ağızın burna göre havadan daha az oksijen alması

13. "Yemek yerken konuştuğumda her defasında boğazıma yemek kaçıyor ve öksürüyorum" diyen Oktay, bunun sebebinin yutaktan kaynaklandığını öğreniyor. Daha sonra yutak ile ilgili öğrendiklerini şekildeki gibi karta yazıyor.

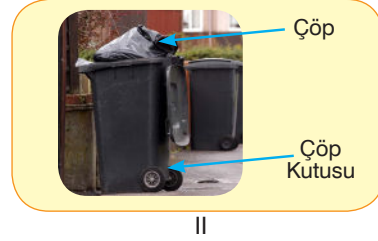
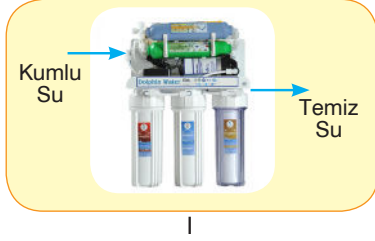


Buna göre Oktay, ▲, ● ve ■ sembolleri ile gösterilen kısımlara aşağıdakilerden hangisini yazamaz?

- A) Yutkunma sırasında yutak soluk borusunu kapatır.
 B) Yutkunma sırasında besinlerin küçük parçalara ayrılmasını sağlar.
 C) Yutakta kimyasal sindirim olayı gerçekleşmez.
 D) Ağız, burun, yemek borusu ve soluk borusunun birleştiği yerdir.

6. Sınıf Kazanım Değerlendirme - 3

14. Derste boşaltım sistemi ile ilgili sunum yapacak olan Yıldız sınıfa şekildeki posterleri getirmiştir.



Posterlerden yola çıkarak Yıldız'ın sunumu ile ilgili,

K- Yıldız I posterini ile su arıtma cihazını böbreklerimize benzetmiştir.

L- Yıldız II posterini ile boşaltımın önemine dikkat çekmek istemiştir.

M- Yıldız yanlış posterler hazırlamıştır.

yorumlarından hangileri yapılabilir?

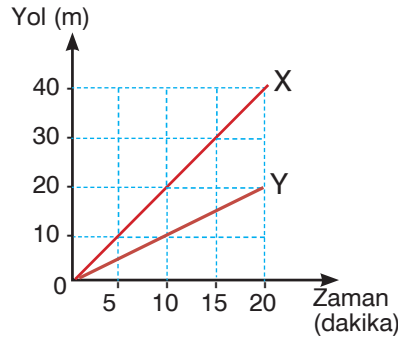
A) K ve L

B) K ve M

C) L ve M

D) K, L ve M

15. Bir hareketlinin birim zamanda aldığı yola sürat denir. Bir hareketlinin süratini bulmak için aldığı yolu ve bu yolu alması için geçen zamanı bilmemiz gerekir. Sürat alınan yolun geçen zamana bölünmesiyle bulunur. Grafikte X ve Y araçlarının 20 dakika boyunca aldıkları yollar gösterilmiştir.



Bu grafiğe göre, aşağıda yapılan yorumlardan hangisi doğrudur?

- A) 10. dakikada X ve Y araçlarının aldıkları yollar eşittir.
- B) Her iki araç da 20 dakika boyunca dengelenmiş kuvvetlerin etkisindedir.
- C) X aracının 20 dakikada aldığı yolu, Y aracı 10 dakikada almıştır.
- D) Y aracının sürati X aracının süratinden fazladır.