

SINAVLA ÖĞRENCİ ALACAK ORTAÖĞRETİM
KURUMLARINA İLİŞKİN SINAV
LGS SÖZEL BÖLÜMÜ
LGS TG3

DERS ADI	SORU SAYISI	TOPLAM SORU SAYISI	SINAV SÜRESİ (DAKİKA)
TÜRKÇE	20	50	75
T.C. İNKILAP TARİHİ VE ATATÜRKÇÜLÜK	10		
DİN KÜLTÜRÜ VE AHLAK BİLGİSİ	10		
YABANCI DİL(İNGİLİZCE)	10		

Adı ve Soyadı
Sınıfı /Şubesi
Öğrenci Numarası

.....
.....
.....

- Sınıf öğrenci yoklama listesinde belirtilen sınıflar ve sıra numarasında oturunuz.
- Cevap kağıdındaki kimlik bilgilerinin doğruluğunu kontrol ediniz. Bilgiler size ait değilse veya cevap kağıdı kullanılmayacak durumdaysa sınav görevlilerine bildirin.
- Kitapçık türünü cevap kağıdındaki ilgili alana kodlayınız.
- Cevap kağıdı üzerindeki kodlamaları kurşun kalemle cevaplayınız.

Bu testte 20 soru vardır. Cevaplarınızı cevap kağıdının TÜRKÇE TESTİ için ayrılan kısmına işaretleyiniz.

1.



Yukarıdaki görsellerin vermek istediği ortak mesaj aşağıdakilerden hangisidir?

- A) Bugüne kadar yapılmış olan tüm araştırmalarda hız ve kaza riski arasındaki ilişkinin boyutları açıkça ortaya koyuyor ki kazalardaki yaralanma ve ölüm oranları hızla paralel olarak artmaktadır.
- B) Son dönemlerde yapılan araştırmalara göre Türkiye'deki kazaların büyük çoğunluğunun, sürücülerin dikkatsizliği yüzünden olduğu belirlenmiştir.
- C) Türkiye genelinde, yılın ilk 9 ayında meydana gelen trafik kazaları nedenleri arasında, "araç hızını; yol, hava ve trafiğin gerektirdiği şartlara uydurmamak" ilk sırada yer aldı.
- D) Aşırı hız, yaşanan olaylara bakıldığında felaketle sonuçlanmıştır. Bu nedenle aşırı hızdan ve dikkatsizlikten kaçınılmalıdır.

2.



Yukarıdaki görsel ve sloganlardan aşağıdakilerden hangisi çıkarılamaz?

- A) Fidanların dikimi teşvik edilmektedir.
- B) Ülkenin geleceği düşünülerek etkinlik gerçekleştirilmiştir.
- C) Bütün sözcüklerin yazımı doğrudur.
- D) Bazı sözler özellikle farklı türlerde vurgulanmıştır.

3.



Yukarıdaki grafikte ülkemizde yabancıların illere göre satın almış oldukları konut sayılarına yer verilmiştir.

Yukarıdaki Türkiye haritası ile ilgili yapılan değerlendirmelerle ilgili olarak aşağıdakilerden hangisinin doğru olduğu **söylenemez**?

- A) AB ülkelerinden ülkemizde konut almaya rağbet olmamıştır.
 B) Farklı kıtalardan ülkeler, konut satın alımı yapmıştır.
 C) Birden fazla bölgede satışlar gerçekleşmiştir.
 D) Satılan konutlar genellikle sahil kentlerindedir.

4.

NOKTALAMA İŞARETLERİ

Aşağıda verilen açıklamalara dikkat ediniz. Örnekleri inceleyerek siz de birer cümle kurunuz.

<p>Ünlem : Heyecan, sevinç, korku, şaşırma, kızma, kaygı, duygularını belirten cümlelerin sonuna konur.</p> <p>• Eyvah kalemimi unuttum!</p>	<p>Virgül : Görevleri bakımından birbirine benzeyen sözcüklerin arasında kullanılır.</p> <p>• Marketten elma, çilek, ananas aldım.</p>
<p>Kesme işareti : Özel isimlere gelen bazı ekleri ayırmak için konur.</p> <p>• Bugün Konyalı'ları ziyaret edeceğiz.</p>	<p>Soru işareti : Soru soran cümlelerin sonuna konur.</p> <p>• Bana uğrayacak mısınız?</p>

Yukarıda bazı noktalama işaretleri ile ilgili özelliklere yer verilip bu özellikler örneklenmiştir. Verilen noktalama işaretlerinden hangisi yanlış kullanılmıştır?

- A) Soru işareti
 B) Kesme işareti
 C) Virgül
 D) Ünlem

5 ve 6. soruları metne göre cevaplayınız.

Benim ansiklopediyle tanışmam, ortaokulda ödev yapmak için kütüphaneye gittiğim günlere rastlar. Bir ansiklopediye sahip olmak o yıllarda, hayal edilemez bir şeydi. O, ancak bir kütüphanede bulunur ve belli bir süreliğine alınıp bakılabilir, dokunulabilir bir nesneydi. Kocaman cüssesiyle bir ansiklopediyi kucaklamak, sayfalarını karıştırmak, bir maddeyi arayıp bulmak; başka bir gezegene inmek ve orada keşiflerde bulunmaktan farksızdı. Ne yazık ki şimdiki çocuklar ansiklopedi bile karıştırmıyorlar. O büyüdü dünyadan, o heyecandan habersiz yaşıyorlar. Öğretmenler ödev verirken "İnternette bulun." diyorlar. Onlar da hiçbir çaba göstermeden İnternet'ten buldukları bilgiyi kopyalıyor; okuyup değerlendirmeden, hiçbir şey öğrenmeden götürüp veriyorlar öğretmenlerine.

5. Bu metinde anlatılanlardan hareketle yazarın günümüz çocuklarıyla ilgili olarak,

- I. bilgiyi özümseyememe
- II. kolaycılığa kaçma
- III. taklit etme
- IV. duygusuz yetişme

gibi durumlarından hangilerinden yakınmaktadır?

- A) I ve II B) Yalnız II C) III ve IV D) Yalnız IV

6. Bu metinde geçen aşağıdaki sözcüklerden hangisi fiilimsi **değildir**?

- A) tanışmam B) okuyup C) gittiğim D) kocaman

7. (I) Yatılı olarak okuduğum ortaokul yıllarımda, yaz tatillerinde Konya'ya, ailemin yanına özlemle dönerdim. (II) O yaşlarda evden yedi – sekiz ay uzakta kalmak kolay değildi. (III) Arkadaşlarımı, okulumu çok seviyordum, bugün de süren dostlukların temeli o yıllarda atılmıştı ama aile özlemi bir başka şeydi. (IV) Bugün, Meram'ı, canımdan çok sevdiğim arkadaşlarımı özlemle anıyorum.

Bu parçadaki numaralanmış cümlelerin hangisinde öğelerin dizilişi "zarf tümleci, nesne, zarf tümleci ve yüklem" biçimindedir?

- A) I B) II C) III D) IV

8. Hani bir gün seninle Topkapı'dan
Geliyorduk; yol üstü bir meydan
Bir çınar gördük, enli, boylu, vakur
Bir ağaç; hiç eğilmemiş, mağrur.
Koca bir gövde belki altı asır
Belki ondan daha fazla, dalgın, ağır
Kaygısız bir ömür sürüp gelmiş.

...

Söyle ey garip vatan, bildir;

Çektiğin hangi kanlı seyyiedir...

Yukarıdaki şiirde vatan hangi varlığa temsili olarak benzetilmiştir?

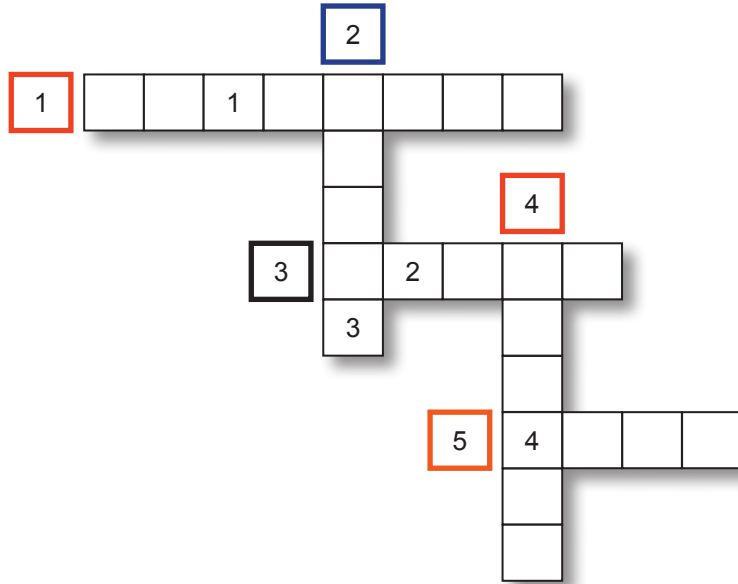
- A) Meydana B) Çınara C) Topkapı'ya D) Ömüre

9. Eğer o şiirler, o romanlar, o tiyatro kaynakları olmasaydı, söylemek bile fazla, duygularımız daha az bilinecek, bilgilerimiz daha az olacaktı. Çünkü edebiyat, daha iyi duymamızı, daha iyi ilgi göstermemizi, düşünmemizi sağlar. Bu dünyada daha doğru, daha insanca yaşamamıza yardımcı olur. Doğrusu neci olduğumuz belli olacaktı.

Bu metinde geçen bazı kelimelerle ilgili bazı özellikler aşağıda verilmiştir.

1. Düşünce, duygu, olay ve imgelerin insanlarda estetik duygular uyandıracak bir biçimde, dil aracılığıyla, söz ve yazıyla anlatımını amaç edinen sanat.
2. İki eli, iki ayağı bulunan, iki ayak üzerinde dik bir biçimde dolaşan, akli ve düşünme yeteneği olan, dille, sözle anlaşılan, en gelişmiş canlı.
3. "İlgi" sözcüğünün eşanlamlısı.
4. Herhangi bir bilim dalında yazılmış olan yazı veya eserlerin bütünü.
5. Bir kimsenin ne iş yaptığını, ne ile uğraştığını, mesleğinin ne olduğunu sormak için kullanılan kelime.

Bu özellikleri aşağıdaki bulmacaya yazıldığında,



numaralanmış kutucuklardaki şifre aşağıdakilerden hangisi olur?

- A) ENKN B) ENLN C) ENBN D) ELNN
10. **Aşağıdaki tanımlardan hangisi ayraç içinde verilen kavramla uyusmamaktadır?**
- A) Şiirde dizeyi, düz yazıda cümleyi oluşturan sözcüklerin ses özelliklerine göre sıralanışından doğan uyum. (ahenk)
- B) Yazınsal yaratılarda yer alan öğelerin birbirine bağlanıp bütünleşerek oluşturdukları düzen. (biçim)
- C) Ayrı olma durumu, ayrılma, birbirinden uzakta kalma, birbirinden ayrı düşme. (ayrıcılık)
- D) Bir olayda, konuyu, düşünceyi belirli bir noktadan inceleme, olaya belirli bir yönden bakma. (bakış açısı)
11. Asma gibi bitkileri sardırma için yapılan çardaklar, aynı zamanda, güneşin yakıcı ışınları veya rüzgâr gibi etkenlerden - - - - sağlar.
- Yukarıdaki cümlede boş bırakılan yere düşüncenin akışına göre aşağıdakilerden hangisi getirilebilir?**
- A) korunmamızı
- B) etkilenmemizi
- C) yararlanmamızı
- D) ayrılmamızı

12. (I) Lunaparklar çocukluğumuzun güzel günlerini anımsatır. (II) Dönme dolaba, atlıkarıncaya, çarpışan otolara binmeden önce duyumsadığımız heyecan ve kimi zaman korku bu eğlence merkezlerini farklı ve ilginç kılar. (III) Çocukken en çok hangilerine binmeyi severdiniz? (IV) Belki de hâlâ içinizdeki o çocuk sizi götürüyor giderek azalan lunaparklardan birine.

Bu parçadaki numaralanmış cümlelerden hangisinin yüklemi gizli öznel geçişli bir fiildir?

- A) I B) II C) III D) IV

13. • Bugüne kadar gördüğüm en güzel rüyaydı.
• Sandığımdan daha hızlıymış.
• Sen de en az benim kadar durgunsun.
• Yemeğin tuzu dünkünden fazla olmuştu.
• Bu ürkütücü yalnızlık, çöldeki sessizlikten farksızdı.
• Onun gibi daha niceleri bir lokma ekmeğe muhtaçtı.

Yukarıdaki cümlelerin ortak özelliği aşağıdakilerden hangisidir?

- A) Nesnel olma
B) Karşılaştırma özelliği taşıma
C) Ön yargı anlamı taşıma
D) Öz eleştirisi niteliğinde olma

- 14.



Yukarıdaki Türkiye haritasındaki verilerden hareketle aşağıdakilerden hangisi söylenemez?

- A) Güney sahillerinde hava açıktır.
B) Orta Anadolu'da yer yer sisli ve puslu bir hava vardır.
C) Tüm yurttta yağış beklenmektedir.
D) Kar yağışının görüldüğü bölgeler mevcuttur.

15. (I) Sanatçı, son romanında kendi çocukluğundan da söz ediyor, bu yönüyle roman, yazarın diğer romanlarından daha gerçekçi bir zemine oturuyor. (II) Sevecen kişiliği romanlarının üslubuna yansımış olmalı ki içten bir dil kullanıyor. (III) Yazar sadece kendi yaşamından ayrıntılara yer vermiyor, döneminde tanık olduğu olayları da anlatıyor; roman bu yönüyle araştırmacılara bir kaynak niteliği de taşıyor. (IV) Yazarın duygusal anlatımı, olayları bizzat yaşamının verdiği coşku romanın değerini artırıyor.

Bir yazarın yapıtının ele alındığı bu parçada numaralanmış cümlelerle ilgili olarak aşağıdakilerden hangisi yanlıştır?

- A) I. cümlede, romanın içeriğiyle ilgili bir karşılaştırma yapılıyor.
 B) II. cümlede, romanlarının içten bir anlatımının olduğu belirtiliyor.
 C) III. cümlede, bir yargı gerekçesiyle birlikte veriliyor.
 D) IV. cümlede, romanın niteliğiyle ilgili bir ön yargıda bulunuluyor.
16. 1. Yer adları (kıta, bölge, il, ilçe, köy, semt vb.) büyük harfle başlar: Afrika, Asya; Güneydoğu Anadolu, İç Anadolu; İstanbul...
 2. Yer adlarında ilk isimden sonra gelen ve deniz, nehir, göl, dağ, boğaz vb. tür bildiren ikinci isimler büyük harfle başlar: Ağrı Dağı, Aral Gölü, Asya Yakası...

UYARI: Özel ada dâhil olmayıp tamlama kuran şehir, il, ilçe, belde, köy vb. sözcükler küçük harfle başlar: Konya ili, Etimesgut ilçesi, Uzungöl beldesi, Taflan köyü vb.

3. Mahalle, meydan, bulvar, cadde, sokak adlarında geçen mahalle, meydan, bulvar, cadde, sokak kelimeleri büyük harfle başlar: Halit Rifat Paşa Mahallesi, Yunus Emre Mahallesi, Karaköy Meydanı...
 4. Saray, köşk, han, kale, köprü, kule, anıt vb. yapı adlarının bütün kelimeleri büyük harfle başlar: Dolmabahçe Sarayı, İshakpaşa Sarayı, Çankaya Köşkü, Horozlu Han, Ankara Kalesi...

Aşağıdaki öğrencilerden hangisi yukarıdaki açıklamalardan birine uymamaktan kaynaklanan bir yazım yanlışı yapmıştır?

- A) RÜVEYDA: Zafer Meydanı'na çıkan yollar kapatılmış.
 B) MİRAY: Avrupa Yakası'ndan Anadolu Yakası'na geçtik.
 C) İREM: İç Anadolu bölgesindeki Zazadın Hanı hâlâ dimdik ayakta.
 D) ERDEM: Çanakale Boğazı'nı geçemeyen gemiler tek tek battılar.
17. Benim için yazmaya başlamanın saati, dakikası yoktur. Diyebilirim ki günün her saatinde yazmaya başlayabilirim. Şimdi emekliyim, zamanı dilediğim gibi kullanabilirim artık. Ama bu yalnızca bir sani, yazma söz konusuysa bu geçerli değildir. Yazmada zamanı "yazı" belirlenir, ne yazılacağına belirleyicisi de odur. Marquez'in, "O kadar acemiymdim ki romanların, yazarın istediği gibi değil de kendi istedikleri gibi başladıklarını henüz bilmiyordum." sözüyle karşılaştınca "yazmaya" sınır konulamayacağına daha derinden inandım.

Bu parçanın anlatımında aşağıdakilerden hangisine başvurulmuştur?

- A) Tanımlama yapma
 B) Anlamca kesinlik bildiren cümleler kullanma
 C) Abartılı söyleyişe yer verme
 D) Alıntıyla düşünceyi pekiştirme

18.



Yukarıdaki 1, 2 ve 3 numaralı butonlara basılıncaya yukarıdaki ekranda belirli harfler belirmektedir.

- 1. butonun içinde A, B, C, D, E harfleri yanmaktadır.
- 2. butonun içinde F, G, H, I, J, N harfleri yanmaktadır.
- 3. butonun içinde S, K, L, M, O, P, R harfleri yanmaktadır.
- Butonlara aralıksız basınca harfler değişmektedir.
- Örneğin 1. butona aralıksız 4 kere basınca ekranda D harfi, 8 kere basınca ekranda C harfi belirmektedir.

Bu bilgilere göre butonlara 10 kere aralıksız basılırsa hangi harfler ekranda oluşur?

A) EIL

B) EJM

C) EHK

D) EOP

19.



Sabahların vazgeçilmezleri olarak bilinen kahvaltılar kültürel değerlere göre çeşitlilik göstermektedir. Geleneksel Türk kahvaltısı masaları dolu dolu hazırlanırken batı ülkelerinde sade kahve ve yanında bir parça ekmek tüketilir. Brezilya'da kahvaltılarda insanlar salam, sucuk ve sosisin yanında bir de kaşar peyniri tüketmeyi çok seviyor. Geleneksel fasulye çorbası olmadan kahvaltı yapmayan Brezilyalılar sade kahve içmeyi de ihmal etmiyor. İspanyol halkın vazgeçilmez kahvaltısı sofrası, Türk geleneklerine göre dolu bir kahvaltısı sofrası. Çin'de kahvaltıda yağda kızartılmış lokmalar tüketiliyor. Yanında bir de çay içen Çin halkının vazgeçilmez geleneksel kahvaltısı bundan ibarettir. Avustralya'da sabah kahvaltısında tostun üzerine marmelat sürülür. Genellikle bir tostla yetinirler. Kolombiya'da gelenek mısır unundan hazırlanmış akıtma. Yanında yumurta, sosis ve sucuk tüketilmektedir.

Yukarıdaki metinde asıl anlatılmak istenen aşağıdakilerden hangisidir?

- A) İnsanlar kahvaltılarını keyifle yaparlar.
- B) Her ulusun kahvaltısı alışkanlığı farklıdır.
- C) Her ulus, kahvaltısını mutlaka ara öğün olarak değerlendirir.
- D) İnsanların alışkanlıkları farklıdır.

20.

- I. yeni projesinde
- II. kötü adam rolleriyle
- III. adını duyuran aktör
- IV. bugüne kadar oynadığı
- V. farklı bir rolle karşımıza çıkıyor

Yukarıdaki sözler kurallı ve anlamlı bir cümle oluşturacak biçimde sıralandığında, hangisi baştan üçüncü olur?

A) I

B) II

C) III

D) IV

Bu testte 10 soru vardır. Cevaplarınızı cevap kağıdının T.C. İNKILAP TARİHİ VE ATATÜRKÇÜLÜK TESTİ için ayrılan kısmına işaretleyiniz.

1.

MİLLİ MÜCADELE'NİN MİHENK TAŞI: SİVAS KONGRESİ

Türkiye Cumhuriyeti'nin kurucusu Mustafa Kemal Atatürk'ün, "Burada bir milletin kurtuluşunu hazırlayan kararlar verildi" sözüyle önemini vurguladığı Sivas, kurtuluş mücadelesinin mihenk taşı olan Sivas Kongresi'nin 99. yıl dönümünde coşkulu bir güne daha tanıklık ediyor



2 EYLÜL 1919
Mustafa Kemal Paşa, 2 Eylül 1919 günü Erzurum'dan Sivas'a geldi ve 18 Aralık 1919'a kadar kentte kaldı

4 -11 EYLÜL SİVAS KONGRESİ
4 Eylül 1919 Perşembe günü saat 14.00'te bugünkü Atatürk Kongre ve Etnografya Müzesi binasında, Türkiye Cumhuriyeti'nin temellerinin atıldığı Sivas Kongresi yapıldı

7 gün süren ve 'manda' tartışmalarının da yaşandığı kongre, 11 Eylül 1919'da sonuç bildirgesinin yayımlanmasıyla kapandı

Ulusal kurtuluş mücadelesine ışık tutacak kararların alındığı Kongreye ev sahipliği yapan Sivas, 108 gün milli mücadelenin merkezi oldu

SİVAS KONGRESİNDEN CUMHURİYETİN İLANINA GİDEN SÜREÇ
Halkın bütününe kapsayan ilk örgütsel faaliyet Sivas'ta gerçekleştirildi ve Sivas Kongresi, şekli ve içeriği itibarıyla adeta milli bir meclis işlevi gördü

Heyet-i Temsiliye bütün vatani temsil eder hale geldi, ulusal örgütlenme tüm vatani kapsadı

Sivas Kongresi, halkı bir bütün halinde, çizdiği program doğrultusunda harekete geçirmeyi sağladı

Bu hareket, 29 Ekim 1923'de cumhuriyetin ilanıyla taçlandı

- 'Her türlü yabancı işgal ve müdahalesine karşı millet top yekûn kendisini savunacak ve direnecektir'
- 'Milli sınırları içinde vatan bölünmez bir bütündür, parçalanamaz'
- 'Manda ve himaye kabul olunamaz'

2018, Anadolu Ajansı www.twitter.com/anadolujansi

Yukarıda verilen görsele göre aşağıdaki değerlendirmelerinden hangisi yapılamaz?

- Ulusal bir toplantıya hazırlık niteliğinde bir kongredir.
- Bağımsızlıktan yana bir tutum sergilenmiştir.
- Toprak bütünlüğünün korunması gerektiği vurgulanmıştır.
- Sivas Kongresi milletin düşmana karşı koyacağına göstergesidir.

2. Birinci İnönü Savaşı'nı düzenli ordunun kazanmasıyla İtilaf Devletleri, TBMM Hükümeti'ni Londra Konferansına davet etmiş ve hukuken tanımış, Sovyet Rusya ise Moskova Antlaşması ile TBMM'yi ve Misakımillî'yi tanıdığını tüm dünyaya duyurmuştur.

Buna göre;

- I. Askeri başarılar siyasi başarıları beraberinde getirmiştir.
 II. TBMM diplomasiyi etkin şekilde kullanmaktadır.
 III. İtilaf Devletleri TBMM'yi Türk milletinin temsilcisi olarak görmektedir.

yargılarından hangilerine ulaşılabilir?

- A) Yalnız I B) I ve II C) II ve III D) I, II ve III
3. Türk milletinin üstün çabaları, Mustafa Kemal ve arkadaşlarının dirayetleri ile Milli Mücadele Lozan safhasına getirildi. Batı Anadolu'da yürütülen mücadelenin sonunda Yunanlıların püskürtülmesi ile Yunan heyetinin hamisi İngiltere masaya oturmak zorunda kaldı. Görüşmelerin başlamasıyla İtilaf Devletlerinin kabul edilemez istekleri tek tek masaya döküldü. Savaş meydanında alamadıklarını masa başında almak adına yoğun bir çabanın içine girdiler. İsmet Paşa ise Türk milletinin haklarını savunmak konusunda son derece ısrarcı bir tutum izlemiştir. Bunun sonucunda Lozan Görüşmelerine ara verilmek zorunda kalınmıştır. Çünkü ne İsmet Paşa ne de İtilaf Devletleri geri adım atmamıştır. Ancak yeniden görüşmelerin başlatılmasıyla sonuca ulaşılmış ve Türkiye devletinin tapu senedi olan Lozan Barış Antlaşması 24 Temmuz 1923 tarihinde imzalanmıştır.

Sadece verilen bilgiye göre Lozan Barış Antlaşması hakkında aşağıdaki yorumlardan hangisi yapılabilir?

- A) Savaş meydanında elde edilen başarı diplomasi alanında elde edilen başarı ile tamamlanmıştır.
 B) Lozan Barış Antlaşması'nda Misak-ı Milli kararlarından hiç taviz verilmemiştir.
 C) Sevr Antlaşması'ndan farklı olarak kapitülasyonlar bütün devletlerin desteğiyle kaldırılmıştır.
 D) Yunan Devleti savaş tazminatı olarak Karaağaç'ı vermeyi kabul etmiştir.

4. Mudanya Ateşkes Antlaşması maddelerinden bazıları aşağıda verilmiştir.

- İstanbul ve Boğazların yönetimi TBMM'ye bırakılacaktır.
- Türk Yunan Savaşı sona erecektir.
- Yunan ordusu Meriç Irmağı'na kadar olan Doğu Trakya'yı 15 gün içinde boşaltacak ve yerlerine gelen İtilaf Devletleri birlikleri de en geç 1 ay içinde Doğu Trakya'yı Türk ordusuna devredecektir.

Verilen bilgilere göre aşağıdakilerden hangisine ulaşamaz?

- A) İstanbul ve Boğazların denetimi TBMM'ye bırakılarak Osmanlı Devleti yok sayılmıştır.
 B) Doğu Trakya savaş yapılmadan kazanılmıştır.
 C) İtilaf Devletleri tamamen Anadolu toprağını terk etmiştir.
 D) Mondros Ateşkes Antlaşması geçerliliğini yitirmiştir.

5. Erzurum Kongresi'nde alınan kararların bazıları şu şekildedir.

- Milli sınırlar içinde vatan bir bütündür, parçalanamaz.
- Kuva-yı Milliye'yi etkin, milli iradeyi hakim kılmak esastır.
- Manda ve himaye kabul edilemez.

Kongrede alınan kararlara göre;

- I. Milli bağımsızlık
 II. Milli egemenlik
 III. Toprak bütünlüğü
 IV. Azınlık hakları

kavramlarından hangilerine vurgu yapıldığı söylenebilir?

- A) I ve II B) I, II ve III
 C) I, III ve IV D) II, III ve IV

6. **Gümrü Antlaşması'nın bazı kararları aşağıda verilmiştir.**

- Kars, Sarıkamış, Iğdır, Kağızman Türk Devleti'ne verilecekti.
- Doğu sınırı, Aras Nehri ve Çıldır Gölü'ne kadar uzanacaktı.
- Ermenistan Hükümeti, Sevr Barış Antlaşması'nı tanımayacaktı.
- Ermenistan, TBMM'nin aleyhinde çalışmayacaktı.
- Türklere saldırıda bulunan Ermeniler dışındakiler isterlerse 6 ay içinde Türkiye'ye dönebileceklerdi.

Yukarıda maddeleri verilen Gümrü Antlaşması hakkında aşağıdakilerden hangisi söylenemez?

- A) Ermenistan TBMM'nin varlığını resmen tanımıştır.
- B) Kuva-yı Milliye birliklerinin elde ettiği ilk uluslararası başarıdır.
- C) Ermenistan Anadolu üzerindeki tüm isteklerinden vazgeçmiştir.
- D) Misakımillî'nin sınırlarına ulaşma yolunda önemli bir adım atılmıştır.

7. Mondros Ateşkes Antlaşması İttifak Devletlerinin I. Dünya Savaşı'nı kaybetmesi nedeniyle Osmanlı Devleti ile İtilaf Devletleri arasında imzalanmış bir ateşkes antlaşmasıdır. Bu antlaşma ile savaş başlamadan önce Osmanlı Devleti'ni kendi aralarında paylaşma planları yapmış olan devletlerin bu amaçlarını hayata geçirmek ve işgallere hukuksal geçerlilik kazandırmak için bir madde konulmuştur.

Yukarıda sözü edilen Mondros Ateşkes Antlaşması'nın maddesi aşağıdakilerden hangisidir?

- A) Ulaşım yolları ve iletişim kanalları İtilaf Devletlerinin denetimine bırakılacak.
- B) Osmanlı Hükümeti İttifak Devletleri ile tüm ilişkilerini kesecektir.
- C) İtilaf Devletleri güvenliklerinin tehdit altında olduğunu gördükleri yerleri işgal edebilecek.
- D) Sınırların korunması ve iç güvenlik dışında kalan tüm askerler terhis edilecek.

8. Mustafa Kemal 19 Mayıs 1919 tarihinde Samsun'a çıkarak İstiklal yürüyüşüne başlamıştır. Bu gerekçeyle yaptığı ilk girişim Havza'da yayınladığı bildiri olmuştur. Yayınladığı bu bildiri ile Türk milletinden İtilaf Devletleri ve İstanbul Hükümetine karşı protesto telgrafları çekilmesini ve işgalleri kınayan mitingler düzenlenmesini istemiştir.

Mustafa Kemal'in Havza Genelgesi'ni yayınlamasının amacı aşağıdakilerden hangisidir?

- A) Halkta milli bilinç oluşmasını sağlamak
- B) İtilaf Devletlerini oyalamak
- C) İstanbul Hükümetine destek vermek
- D) Azınlık faaliyetlerinin önüne geçmek

9. Tanzimat Fermanı ile hiç kimse yargılanmadan cezalandırılmayacak, tüm halkın, can, mal ve namus güvenliği sağlanacak ve vergiler herkesin gücüne göre alınacaktı.

Bu bilgiye göre Tanzimat Fermanı ile ilgili aşağıdakilerden hangisi söylenemez?

- A) Hukukun üstünlüğü ilkesi ile hareket edilmiştir.
- B) Eşitlikçi kararlar alınmıştır.
- C) Halkın yönetime katılması sağlanmıştır.
- D) Kişi hak ve hürriyetleri güvence altına alınmıştır.

10. **Mustafa Kemal'in askerlik hayatında gerçekleşen;**

- I. İlk görev yeri olan Şam'da Vatan ve Hürriyet Cemiyeti'ni kurması
- II. 31 Mart Olayının bastırılması için oluşturulan Hareket Ordusu'nun kuruluş sürecinde görev alması
- III. Trablusgarp Savaşı'na katılarak halkı İtalyanlara karşı örgütlemesi

faaliyetlerinden hangileri onun teşkilatçı kişiliğine örnek gösterilebilir?

- A) Yalnız I B) Yalnız II C) I ve III D) I, II ve III

Bu testte 10 soru vardır. Cevaplarınızı cevap kağıdının DİN KÜLTÜRÜ VE AHLAK BİLGİSİ TESTİ için ayrılan kısmına işaretleyiniz.

1. Medine’de bazı arkadaşları Peygamberimize gelerek hastalandıklarında ve tedavi olmadıklarında bundan sorumlu olup olmayacaklarını sordular. Peygamberimiz onlara şöyle cevap verdi: “Ey Allah’ın kulları, tedavi olun! Allah her hastalığın çaresini de yaratmıştır. Yalnız ihtiyarlığın çaresi yoktur.” (Ebu Davud)

Bu örneğe göre;

- I. İyileşmek için ilaç kullanmaktan kaçınmak sünnete aykırıdır.
II. Kader değişmediği için hastalığa çare aramak sonucu değiştirmez.
III. Peygamberimiz insan sağlığına önem vermektedir.

Yargılarından hangisi doğrudur?

- A) Yalnız I B) I ve III C) II ve III D) I, II ve III

2. Bir gazetede şöyle bir haber yayınlanmıştı: “Yıllar önce bir kimsenin öldürülmesiyle iki aile arasında başlayan kan davası zaman içinde pek çok kimsenin hayatını kaybetmesine neden olmuş ancak ailelerin yaşadığı ilçenin kaymakamı ve ilçenin ileri gelenlerinin girişimleriyle geçtiğimiz günlerde barışla sonuçlanmıştır. İki aile arasında verilen barış yemeği ile birlikte belki de pek çok kimsenin hayatını kaybetmesine neden olacak olan bu kan davası sona erdirilmiştir.”

Haber aşağıdakilerden hangisinin korunmasına örnek oluşturmaktadır?

- A) Canın B) Malın C) Aklın D) Neslin

3. Diyanet İşleri Başkanlığından yapılan bir açıklamanın içeriği şöyledir:

"Yapılan değerlendirmeler neticesinde Müslüman toplumların neredeyse tamamına yakın bir kesimi tarafından veriliyor olması dikkate alınarak, mevcut sosyoekonomik hayat şartları ve bir kişinin günlük asgari gıda ihtiyacı göz önünde bulundurularak 2019 ramazan ayının başlangıcından 2020 yılı ramazan ayının başlangıcına kadar olan sürede 23 lira olarak belirlenmesine karar verildi."

Yapılan açıklamada belirtilen miktar aşağıdakilerden hangisine aittir?

- A) İnfak B) Zekât
C) Fitre D) Sadaka-i cariyeye

4. Din kültürü ve ahlak bilgisi dersinde neredeyse her ünitenin sonunda bir surenin anlamı ve bir peygamberin hayatı ana hatlarıyla yer almaktadır. Zekât ve sadakanın işlendiği ikinci ünitenin sonunda da Maun suresinin öğrenilmesi amaçlanmıştır. İlgili ünitenin konusu ile Maun suresinin anlamı arasında bulunan ilişki nedeniyle Maun suresi ikinci ünitenin sonunda yer almıştır.

Aşağıdakilerden hangisi bu ilişkiyi ifade etmektedir?

- A) Fitrenin vacip olduğu konusu Maun suresinde anlatılmaktadır.
B) Yoksulları doyurmanın ahiret inancıyla ilgisi surede geçmektedir.
C) Zekât vermenin İslam’ın temel ilkelerinden olduğu ayetlerde işlenmektedir.
D) Sadaka-i cariyeye ile amel defterinin kapanmayacağı ifade edilmektedir.

- 5.



Cuma namazı için gelen cemaat ezandan sonra namazın ilk sünnetini kılmış, imamın hutbe vermesini bekliyordu. İmam o haftaki hutbenin konusunun hakkı ve sabrı tavsiye etmek olduğunu söyledi. Ardından hutbenin başlangıcında aynı konuyu anlatan bir surenin anlamını okudu.

Buna göre imamın anlamını okuduğu bu sure aşağıdakilerden hangisi olmalıdır?

- A) Asr B) Felak C) Fatiha D) Kureş

6. Aşırma, çalma ve yağmalama gibi anlamlara gelen inihal kelimesi Türk Dil Kurumunun sözlüğüne göre "bir kişinin eserinde başka kişilerin ifade, buluş veya düşüncelerini kaynak göstermeksizin kendisine aitmiş gibi kullanması" olarak açıklanmaktadır. Bu durum İslam'ın da yasakladığı konulardandır.

Metni en iyi aşağıdakilerden hangisi açıklar?

- A) Canın korunması için gerekli tedbirleri almak gerekir.
B) Fikir özgürlüğü dinin değer verdiği özgürlüklerdendir.
C) Kul hakkının korunması İslam'ın önemseydiği konulardandır.
D) Herkes düşüncelerini dilediği gibi açıklayabilmelidir.

7.

• Borcu olmayan • En az nisap miktarı mala sahip • Temel ihtiyaçlarını karşılamış kimseler
--



- | |
|--|
| • Fakirler
• Yoksullar
• Yolda kalmışlar
• Borçlular
• Köleler |
|--|

Tabloya verilmesi gereken isim aşağıdakilerden hangisidir?

- A) İnfak vermekle kimler yükümlüdür?
B) Fitre vermenin ve almanın şartları nelerdir?
C) Sadaka kimlere ve nasıl verilmelidir?
D) Zekâtı kimler kimlere verebilir?
8. Kur'an-ı Kerim'in ilk ayetlerinin gönderildiği yıllarda Mekke'de müşrikler Müslümanların sayısının artmasından rahatsızdılar. İslam'ın yükselişini engellemek istediler. Bunun için Peygamberimizi insanların nezdinde değersizleştirecek bazı iftiralar atmaya karar verdiler. İçlerinden biri Peygamberimizin yalan söylediğini yaymayı teklif etse de bu teklif kabul görmedi. Çünkü hiç kimse bu iftiranın kabul göreceğine ihtimal vermemişti.

Mekke'de müşriklerin bu düşünce olmasının altında Peygamberimizin hangi özelliğe sahip olması yer almaktadır?

- A) İlme değer veren biri olarak insanlara değer vermesi
B) İnsanlara yardım eden bir kimse olması
C) Cesur ve gözü pek bir karakterde olması
D) Emin bir kimse olarak sıdk özelliğine sahip olması

9. Din, bireylerin yaşamında huzur ve mutluluğun artmasını amaçlar, bu uğurda kurallar koyar. Dine ait olan bu kurallar sayesinde toplum daha yaşanabilir bir yer olur, bireyler arasındaki sorunlar en aza indirgenmeye çalışılır.

Aşağıdakilerden hangisi bu kurallar arasında sayılmaz?

- A) Farklı fikirlere sahip insanların toplumdaki uzaklaştırılması
B) Kötü alışkanlıklardan kaçınmanın dinin emirlerinden olması
C) Hırsızlığın günah sayılarak yasaklanması
D) Ticarete dürüst olmanın Allah'ın rızasını kazandırması

10. Hz. Yusuf, zindanda kendisine gelerek gördükleri rüyaları yorumlatmak isteyen iki kimseye şöyle cevap vermiştir: "Size erzak olarak verilen yemek gelmeden önce, onun yorumunu mutlaka size haber vereceğim. Bu, Rabbimin bana öğrettiği bir bilgidir. Şüphesiz ben, Allah'a inanmayan, aynı zamanda kendileri âhireti de inkâr etmekte olan bir kavmin dininden uzaklaşıp geldim." (Yusuf suresi, 37. ayet)

Bu örnekten aşağıdakilerden hangisi çıkarılamaz?

- A) Sahip olunan yetenekler Allah yolunda kullanılmalıdır.
B) Yardım isteyen kimselerden öncelikle doğru söylemeleri istenmelidir.
C) Bize verilen üstün özellikleri Allah'ın verdiği unutulmamalıdır.
D) Üstün özelliklerimizi dini tebliğ etmek için kullanmalıyız.

Bu testte 10 soru vardır. Cevaplarınızı cevap kağıdının İNGİLİZCE TESTİ için ayrılan kısmına işaretleyiniz.

1.


Name	RESPONSIBILITY
Steve	Washing up
Markus	Do the laundry
Hans	Dusting the furniture
Janet	Ironing

According to the chart above, which one of the following is Markus?



2. **Henry** : I'm Henry and I'm an adrenaline junkie. I do different difficult sports in my free time. I have tried extreme sports like heli-skiing, base jumping, ice climbing and highlining. I like all of them, but I've enjoyed moving on the rope most. It is really exciting.

Which of the following best describes Henry's favourite challenging activity?



3.



HOW TO MAKE VEGETABLE PIZZA

(I) ----, cut and slice a carrot, a tomato and a green pepper. Peel and chop an onion. (II) ----, put all the vegetables in a frying pan. (III) ----, put three tablespoons of oil. Add a teaspoon of salt and fry the vegetables for about ten minutes. (IV) ----, put the fried vegetables on the pizza bread. Put grated cheese on top of the fried vegetables. (V) ----, set the microwave for 5 minutes and keep the pizza in it. Take it out after 5 minutes. Your delicious pizza is ready. Enjoy it!

Complete the blanks (I-II-III-IV-V) in the text with the suitable words.

- A) I/First – II/Finally – III/Then – IV/After that – V/Next
 B) I/ Next – II/Then – III/First– IV/ After that – V/Finally
 C) I/First – II/After that – III/Finally – IV/Then – V/Next
 D) I/First – II/Next – III/Then – IV/After that – V/Finally

4. **Claire** : Hey, Angela. I need your help. I can't download these files to my laptop.
- Angela** : Let me see. You need to register to the website first.
- Claire** : What do you mean?
- Angela** : I mean ----.

Which of the following best completes the dialogue above?

- A) you should use an anti-virus program
- B) you shouldn't share your personal information
- C) you should get an account first
- D) you should share some photos of you

5. **Kyle** : ----?
- Selena** : I can't hear you well. I think it's a bad line.
- Kyle** : Are you free on Saturday and Sunday?
- Selena** : I don't have anything to do.

Which of the following best completes the dialogue above?



- A) Do you have any plans for the weekend
- B) How about going on a picnic on Wednesday
- C) I have an exam tomorrow. Can we study together
- D) Do you like going out at the weekends

6. **You are working in a call centre of an international company. Your job is to receive phone calls from the customers and try to solve their problems.**

A customer calls the centre. You greet the customer, introduce yourself and ask what you can do for him/her kindly. What do you say?

- A) I don't understand why you call me.
- B) Hello, sir. Jane is speaking. What can I help you with?
- C) Please don't call again. I don't want to talk to you.
- D) Hi, Jane is speaking. Aren't you Matt's brother?

7.

	Height	Construction Date
 London Eye	135 m	2000
 Big Ben	96 m	1834

Which one is TRUE according to the chart above?

- A) Big Ben is taller than London Eye.
- B) Big Ben is newer than London Eye.
- C) London Eye is taller than Big Ben.
- D) London Eye is older than Big Ben.

8.

Bart's daily routines	
07:30	Get up and have breakfast
08:15	Leave home for school
09:00	Lessons start
12:30	Have lunch at school canteen
15:30	Get back home
16:30	Do homework
17:45	Help mum
19:20	Have dinner with family
20:05	Read a book
21:00	Watch TV
22:00	Go to bed

After Bart gets back home, he ----.

Which of the following pictures best describes the activity that Bart does after he gets back home?

A)



B)



C)



D)



"Answer the questions (9-10) according to the chart below"

Name	Destination	Means of Transport	Accommodation
Nicole	Masai Mara, Kenya	By train	Bungalow
Leila	Taj Mahal, India	By bus	Bed and breakfast hotel
Patrick	Hagia Sophia, Turkey	By plane	All-inclusive
Simon	Burj Khalifa, Dubai	By bus	Bed and breakfast hotel

9. Choose the option that best completes the sentence below.

Leila and Patrick ----.

- A) travelled by plane
- B) stayed in bungalows.
- C) spent their holidays in East Asia
- D) prefer visiting historical buildings to modern ones

10. Which one of the following is FALSE according to the chart above?

- A) Patrick prefers bus to plane.
- B) Leila stayed at a bed and breakfast hotel.
- C) Simon visited a modern building.
- D) Nicole travelled by train.