

SOSYAL BİLGİLER

7

SINIF

EVDEKAL ÖĞRENCİ KAMPI DENEMELERİ

DENEME 3



Yazarlar

ÇETİN KAYADELEN
BETÜL DERİCİ
CUMALİ GÜLER
YASİN GÖKÇE
REŞİT ÜNAL

Toplam süreniz

30 Dakika

Soru Sayısı

15

Deneme Formatı

13 MART'A KADAR İŞLENEN
KONULARI KAPSAYAN
GENEL DENEME

DENEMEDE SORULAN SORULARIN ÜNİTELERE GÖRE DAĞILIMLARI

	1	2	3	4	5	6	7	8	9	10	11	12	13	14	15
1. Ünite:			3					8					13		15
2. Ünite:	1			4	5		7		9	10				14	
3. Ünite:		2				6					11	12			
4. Ünite:															
5. Ünite:															
6. Ünite:															
7. Ünite:															



Daha fazla
döküman için:

fb.com/groups/ortaokulpaylasim

Online denemelere www.modeldeneme.com adresinden ulaşabilirsiniz

DENE MEVAKTI
Hedef Bizimle Daha Yakın

MODEL
EĞİTİM YAYINLARI

Adı: _____

Soyadı: _____

Sınıf-şube: _____

No: _____

Bu denemede toplam 15 soru bulunmaktadır. Soruların tamamını yanıtlamak için toplam 30 dakikanız vardır.

1. II. Mehmet İstanbul'un fethi öncesi aşağıdaki hazırlıkları yapmıştır.



400 gemilik bir donanma hazırlamıştır.



Şahi isminde büyük toplar dök-türmüştür.



Anadolu Hisarı'nın karşısına Ru-meli Hisarı'nı yaptırmıştır.

Buna göre II. Mehmet aşağıdakilerden hangisini amaçlamamıştır?

- A) Rumeli'de ilk toprağı elde etmeyi
B) Boğazlardan gelecek yardımı engellemeyi
C) İstanbul'u çevreleyen surları yıkmayı
D) Denizde hâkimiyet kurmayı

2.



Üniversite öğrencisidir.



Ailesi ile birlikte Adana'da yaşamaktadır.



Hilal



Yaz tatilinde beş günlüğüne Pokut Yay-lası'na gitmiştir.




Babasının doğum günü hediyesi aldığı yeni telefonu ile her gün annesi le konuşmaktadır.

Bu infografik dikkate alındığında Hilal'in aşağıdaki hak ve özgürlüklerinden hangisini kullandığı söylenmez?

- A) Seyahat hürriyeti
B) Yerleşme özgürlüğü
C) Eğitim hakkı
D) Bilgi edinme hakkı



3.



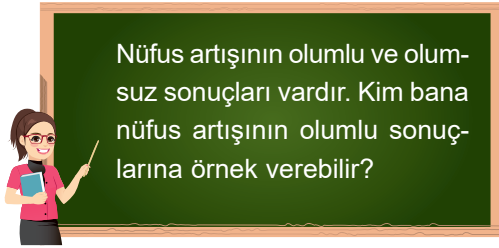
Etkin iletişimde bulunabilmek için hepimizin dünyayı farklı şekilde algıladığımızın ve bu algılamalarımızı diğerleriyle iletişimimizde rehber olarak kullandığımızın farkına varmalıyız.

Anthony Robbins

Anthony Robbins bu sözüne göre aşağıdakilerden hangisi söylenebilir?

- A) İletişim kurma kanalları zamanla değişmektedir.
- B) Her insanın farklı olduğunu unutmadan, iletişimde farklılıklara saygı duymalıdır.
- C) Empati kurmak iletişimi olumlu yönde etkilemektedir.
- D) Diğer inanların farklılıklarına dikkat etmek önemli değildir.

4.



Nüfus artışının olumlu ve olumsuz sonuçları vardır. Kim bana nüfus artışının olumlu sonuçlarına örnek verebilir?

Sosyal bilgiler öğretmeninin sorusuna öğrenciler şu cevapları vermiştir:



Elif: İş gücü artar ve ucuzlar.



Uğur: Çarpık kentleşme görülür.



Asya: Trafik sorunu meydana gelir.



Ali: Enerji tüketimi artış gösterir.

Verilen cevaplara göre hangi öğrenci sosyal bilgiler öğretmeninin sorusuna doğru cevap vermiştir?

- A) Elif
- B) Uğur
- C) Asya
- D) Ali

5.

Osmanlı Devleti'nde birçok alanda özellikle askeri, ekonomi, teknik ve eğitim alanlarında yenilikler yapılmıştır.

Osmanlı Devleti'nin bu alanlarda yenilik yapmasının amacı aşağıdakilerden hangisidir?


- A) Osmanlı Devleti'nin yönetim yapısını değiştirmek
- B) Osmanlı Devleti'nde modernleşmeyi sağlamak
- C) Osmanlı Devleti'ni fetih politikasını değiştirmek
- D) Osmanlı Devleti'nin sınırlarını genişletmek

6. İnsanlar tarımsal üretime geçmeden önce avcılık ve toplayıcılıkla uğraşıyordu.

Bu durum aşağıdakilerden hangisine neden olmuştur?

- A) Yerleşik hayata geçilmesine
- B) Madencilik gelişmesine
- C) Göçebe yaşam tarzına
- D) Yazının icat edilmesine

7.



Yanda Takvim-i Vekayi isimli Osmanlı Devleti'nin ilk resmi gazetesi görülmektedir.

Bu görsel ve bilgiye göre Osmanlı Devleti ile ilgili değerlendirmelerden hangisi yapılabilir?

- A) Haberleşme alanında yenilik yapılmıştır.
- B) Diplomatik gelişme yaşanmıştır.
- C) Avrupa örneği alınmıştır.
- D) Ulaşım ağı güçlendirilmiştir.



8. Ben dili, günlük konuşmalarımızda ne düşündüğümüzü ve ne hissettiğimizi birinci tekil kişi ağzından aktaran konuşma şeklidir. Konuşmalarımızda "benli ifadeler kullanırsak hem karşımızdaki insanları kırmamış hem de kendimizi daha iyi ifade etmiş oluruz.



Buna göre aşağıdakilerden hangisi Ben Dili'ne örnek gösterilebilir?

- A) Senin yüzünden derslere geç kalıyorum.
- B) Bilgisayarda çok zaman geçiriyorsun.
- C) Geç geldiğinde endişeleniyorum.
- D) Hiç akıllanmayacaksın değil mi?

9. **Mısır Seferi sonunda;**

- Mısır, Suriye ve Arabistan yarımadası Osmanlı Devleti'nin eline geçti.
- Baharat Yolu'nun önemli bir bölümü kontrol altına alındı.
- Halifelik Memlûklü Devleti'nden Osmanlı Devleti'ne geçti.

Buna göre Mısır Seferi ile Osmanlı Devleti hangi alanda kazanım elde etmemiştir?

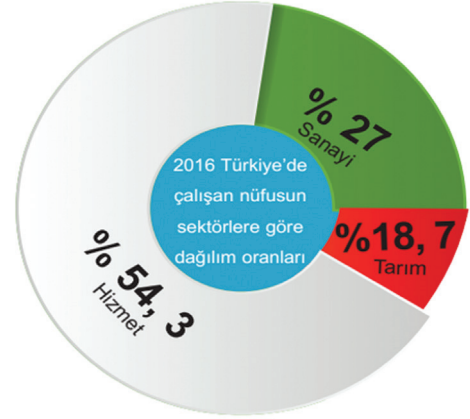
- A) Ekonomi
- B) Dini
- C) Siyasi
- D) Hukuki

10. XV. ve XVI. yüzyılda 'da başlayan bilim, sanat, edebiyat, mimari alanında meydana gelen gelişme ve değişime denir.

Verilen metinde boş bırakılan yerlere sırası ile aşağıdakilerden hangileri yazılırsa bilgi bütünlüğü doğru sağlanmış olur?

- A) Almanya – Reform
- B) Fransa – Fransız İhtilali
- C) İtalya – Rönesans
- D) İngiltere – Sanayi İnkılabı

11. Aşağıdaki tabloda 2016 yılında Türkiye'de çalışan nüfusun sektörlere göre dağılım oranları verilmiştir.



Bu tablodan;

- I. Tarım sektöründe verim artmıştır.
- II. Hizmet sektöründe çalışan nüfus fazladır.
- III. Sanayi sektörü tarım sektörünün gerisindedir.

hangilerine ulaşılabılır?

- A) Yalnız I
- B) Yalnız III
- B) I ve II
- D) II ve III

12. Gümüşhane'nin nüfusu oldukça azdır. Gümüşhane'de temel geçim kaynağı tarım ve hayvancılıktır. Tarım işletmelerinin küçüklüğü ve verimin düşük olması, gelir yetersizliğine yol açmaktadır. Bu nedenle halk genellikle iş imkânlarının fazla olduğu yerlere göç etmektedir.



Buna göre Gümüşhane'nin nüfusunun az olmasında aşağıdakilerden hangisi etkilidir?

- A) İş imkânlarının fazla olması
- B) Ekonominin gelişmemesi
- C) Verimli tarım arazilerinin bulunması
- D) Turizmin gelişmişliği



13.

En önemli bir vazifemiz; kulaklarımızı, söylediklerimizi duymaya alıştırmamızdır.

Neden iki kulağımıza karşılık bir dilimiz var?

Bir güzel söz söyleme sanatı varsa, bir de güzel anlama sanatı vardır.

Verilen bu sözlerde;

- I. Etkili dinlemek
- II. Ön yarıklı yaklaşmak
- III. Göz teması kurmak
- IV. Etkili reddetmek

hangilerinin önemine vurgu yapılmıştır?

- A) Yalnız I B) I ve IV C) II ve III D) II, III ve IV

14.

Osmanlı Devleti'nin kuruluş döneminde, Balkanlarda çok sayıda beylik, devlet ve krallık vardı. Bunlar sürekli birbirleriyle savaş halindeydi. Aralarındaki mücadele durmak bilmiyor, buradaki halkı eziyorlardı. Halk bundan, savaşlardan ve yöneticilerden hoşnut değildi. Balkanları fethedince Osmanlı Devleti bu bölgedeki halka hoşgörülü ve adil davranınca, halk Osmanlı Devleti'nin yönetiminde kalmayı tercih etti.

Bu durumun aşağıdakilerden hangisine ortam hazırladığı savunulabilir?

- A) Osmanlı Devleti'nin sınırlarının doğu yönünde genişlemesine
- B) Bizans İmparatorluğu ile iyi ilişkiler kurulmasına
- C) Osmanlı Devleti'nin Balkanlarda kalıcı olmasına
- D) Müslüman devletler ile Osmanlı Devleti'nin ilişkilerinin bozulmasına

15. Aysel okula üzgün gelmiştir. Yakın arkadaşı Esra bunu fark edince Aysel'e



Esra: Neden üzgünsün?



Aysel: En sevdiğim kalemini kaybettim.



Esra: Aysel olur böyle şeyler, aldırma yenisini alırsın. Dert ettiğin şeye bak. Böyle şeyleri kafana takma



Aysel: Öyle söyleme ben üzülüyorum ama.



Esra: Sende her şeyi kafana takıyorsun. Üç dört gün sonra hatırlamayacaksın bile, takılma.

Bu diyaloga göre aşağıdaki yargılardan hangisine ulaşılabilir?

- A) Aysel olaylara iyimser yaklaşmaktadır.
- B) Esra, Aysel'i teselli etmeye çalışmaktadır.
- C) Esra, ben dilini kullanmaktadır.
- D) Aysel, Esra'ya öğüt vermektedir.