

SOSYAL BİLGİLER

7

SINIF

EVDEKAL ÖĞRENCİ KAMPI DENEMELERİ

DENEME
2



Yazarlar

ÇETİN KAYADELEN
BETÜL DERİCİ
CUMALİ GÜLER
YASİN GÖKÇE
REŞİT ÜNAL

Toplam süreniz

30 Dakika



Soru Sayısı

15



Deneme Formatı

13 MART'A KADAR İŞLENEN
KONULARI KAPSAYAN
GENEL DENEME

DENEMEDE SORULAN SORULARIN ÜNİTELERE GÖRE DAĞILIMLARI

	1	2	3	4	5	6	7	8	9	10	11	12	13	14	15
1. Ünite:	1		3					8					13		
2. Ünite:		2		4	5				9						
3. Ünite:						6								14	15
4. Ünite:							7			10	11	12			
5. Ünite:															
6. Ünite:															
7. Ünite:															



Daha fazla
döküman için:

fb.com/groups/ortaokulpaylasim

Online denemelere www.modeldeneme.com adresinden ulaşabilirsiniz

DENE MEVAKTI
Hedef Bizimle Daha Yakın

MODEL
EĞİTİM YAYINLARI

Adı: _____

Soyadı: _____

Sınıf-Şube: _____

No: _____

Bu denemede toplam 15 soru bulunmaktadır. Soruların tamamını yanıtlamak için toplam 30 dakikanız vardır.

1.

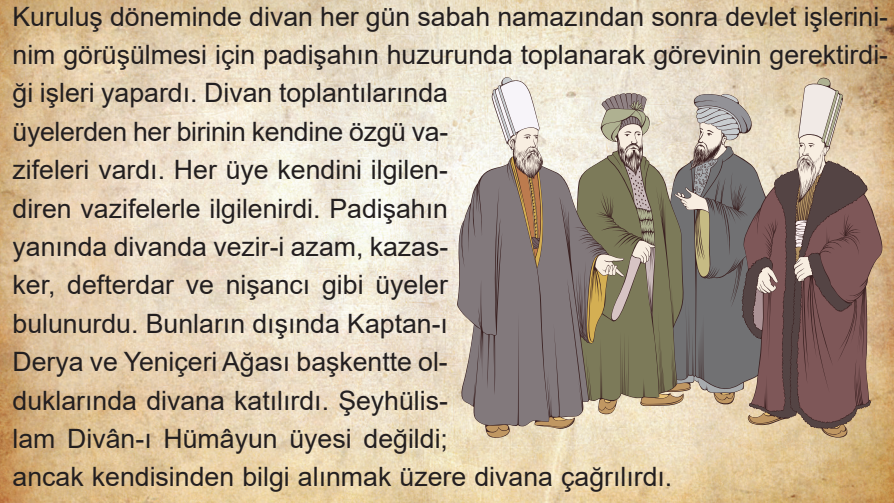


Mevlana bu sözünde iletişimi etkileyen faktörlerden hangisinin önemine vurgu yapmıştır?

- A) Etkili reddetmek
C) Empati kurmak

- B) Göz teması kurmak
D) Farklılıklara saygılı olmak

2.



İnfografikten hareketle aşağıdaki yorumlardan hangisi yanlıştır?

- A) Osmanlı Devleti'nde devlet işleri divanda görüşülmüştür.
B) Şeyhülislam Divan'ın daimi üyeleri arasında yer alır.
C) Divan üyelerinin her birinin farklı görevi bulunmaktadır.
D) Yeniçeri Ağası tüm toplantılara katılmamaktadır.



3.

İletişim konusu açıldığında ilk akla gelen sözlü iletişimdir. Ancak iletişim sadece sözlü olarak gerçekleşmemektedir. Bir el hareketi veya bir bakış söylenen sözün daha etkili olmasında önemli bir rol oynar. Sözü söylerken yüksek sesle mi alçak sesle mi söylememiz dahi iletişimde etkili olabilir.



Buna göre;


- I. Sözlü iletişim tek başına yeterlidir.
- II. İletişimde ses tonu etkilidir.
- III. Beden dili iletişimde önemlidir.

yargılarından hangilerine ulaşılabilir?

- A) Yalnız II
- B) I ve II
- C) II ve III
- D) I, II ve III

4.

Matbaayı icat eden Çinlilerden Türkler matbaayı öğrenerek kendilerine özgü baskı tekniğini geliştirmişlerdir. Türklerden Müslümanlar matbaayı öğrenmiş, daha sonra Haçlı Seferleri sırasında Avrupalılar Müslümanlardan matbaayı öğrenerek Avrupa'ya taşımışlardır. Avrupa'da matbaayı geliştirmek için çalışmalar yapılmış, Almanya'da Gutenberg geliştirdiği basım tekniği ile modern matbaanın temelini atmıştır.



Bu bilgilerden çıkarılabilecek ortak yargı aşağıdakilerden hangisidir?

- A) Matbaanın icadının siyasi ve hukuksal sonuçları olmuştur.
- B) Gutenberg ilk matbaayı bulan bilim insanı olarak tarihe geçmiştir.
- C) Türkler modern matbaacılığın temelini atmıştır.
- D) Matbaanın gelişiminde farklı uygarlıkların katkısı vardır.

5.

Fransa'da başlayan Fransız İhtilali önce Avrupa'da sonra tüm dünyada etkisini gösteren, evrensel sonuçlar doğuran, bir çağın açılıp bir çağın kapanmasına neden olan önemli bir olaydır. Fransız İhtilali ile "Her millete bir devlet" sloganı ile hızla yayılan milliyetçilik fikri Osmanlı Devleti'ni de etkiledi. Farklı milletlerin bir arada yaşadığı Osmanlı Devleti'nde azınlık isyanları baş gösterdi. Avrupalı devletlerin desteğini alan azınlıkların bazıları çıkardıkları isyanlar ile bağımsızlıklarını kazandı. Osmanlı Devleti ciddi toprak kayıpları yaşadı.

Buna göre Fransız İhtilali Osmanlı Devleti'ni hangi alanda etkilemiştir?

- A) Ekonomik
- B) Siyasi
- C) Kültürel
- D) Hukuk

6.

Aşağıda göçün nedenlerini gösteren bir tablo verilmiştir.

Siyasi Neden	Savaş
Ekonomik Neden	?
Sosyal Neden	Eğitim
Doğal Neden	Deprem

Verilen tablonun doğru tamamlanması için "?" yerine aşağıdakilerden hangisi yazılmalıdır?

- A) İşsizlik
- B) Heyelan
- C) Sağlık
- D) Terör

7.

Osmanlı Devleti kuruluş döneminde gaza ve cihat anlayışı doğrultusunda Bizans ile savaşlar yapmıştır. Önemli ticaret yolları üzerinde bulunan Bizans şehirlerini ele geçirmek için seferler yapmış, ele geçirdiği şehirler ile bölgenin ticaretine hâkim olmayı başarmıştır.

Buna göre aşağıdaki çıkarımlardan hangisi yapılamaz?

- A) Bizans ile Osmanlı arasında mücadeleler yaşanmıştır.
- B) Osmanlı Devleti'nin sınırlarında daralma meydana gelmiştir.
- C) Osmanlı Devleti ekonomik olarak güçlenmeyi amaçlamaktadır.
- D) Yapılan savaşlarda dini faktör etkili olmuştur.



8.

MAGAZİN VAKTİ

Dünyaca tanınan müzisyen Hakan Kutlu sosyal medya hesabı üzerinden yaptığı canlı yayın ile Türkiye’de yapılan müzik hakkında görüşlerini hayranları ile paylaştı.

Buna göre Hakan Kutlu aşağıdaki hak ve özgürlüklerinden hangisini kullanmıştır?

- A) Düşünceyi açıklama özgürlüğü
- B) Seyahat hürriyeti
- C) Özel hayatın gizliliğini hakkı
- D) Kişi dokunulmazlığı

9.

Bir bölgede insanların yaşamlarını sürdürebilmesi için yerleştirilmesine iskân denir. Osmanlı Devleti fethettikleri bölgelerde iskân uygulayarak ülke içinde huzuru bozan, göçebe yaşayan grupları, aileleri yerleştirmiştir. Özellikle Balkanlarda ele geçirdiği topraklara Türkleri yerleştirmiştir. Böylece bölgedeki hâkimiyeti artmış, bölgedeki Türk nüfusu artış göstermiştir. Buralara yerleşen ailelere savaş sonrası boşta kalan topraklar verilmiş, çiftçilik yapmalarını teşvik edilmiştir.

Buna göre Osmanlı Devleti ile ilgili aşağıdakilerden hangisine ulaşamaz?

- A) Bölgede kalıcı olmayı hedeflemektedir.
- B) Üretimi artırıcı tedbirler almıştır.
- C) Balkanları Türkleştirmeye çalışmıştır.
- D) Bayındırlık faaliyetlerinde bulunmuştur.

10.

Galileo Galilei, İtalyan bilim insanıdır. Ortaçağ Avrupa’sında yaşayan Galileo’nun yaptığı bilimsel çalışmalar kiliseyi rahatsız ettiği için Engizisyon Mahkemesinde yargılanmıştır. Mahkemede dünyanın dönmediğini söylemesi şartı ile idam edilmekten kurtulacağı için dünyanın dönmediğini söyleyen Galileo mahkeme çıkışında “Ben ne kadar dönmüyor desem de dünya dönüyor.” demiştir.

Galileo Galilei bu sözünde aşağıdakilerden hangisini vurgulamıştır?

- A) Bilimin sürekli ilerlediğini
- B) Bilimin temelinde merak olduğunu
- C) Bilimsel gerçeklerin değişmeyeceğini
- D) Bilim insanlarının örnek alınmasını

11.

Biruni, Gazneliler döneminde yaşamış ünlü bilim insanıdır. Gazneli Hükmüdarı Gazneli Mahmut, Biruni için sarayının en değerli hazinesi olduğunu söylemiştir. Rahat çalışma ortamı bulan Biruni fizik, tıp, matematik, astronomi gibi alanlarda eserler vermiştir.



Buna göre aşağıdakilerden hangisi söylenemez?

- A) Gazneliler bilimsel çalışmaların özgürce yapılması için ortam sağlamıştır.
- B) Gazneli Mahmut bilimi destekleyen bir devlet adamıdır.
- C) Biruni birden çok alanda çalışma yapmıştır.
- D) Gazneliler döneminde bilim insanlarına baskı uygulanmıştır.

12.




Yandaki görsel Mezopotamya’da bulunmuş dünyanın ilkyazı örneklerinden birdir. Çivi yazısı ile kil tablet üzerine yazılmıştır.

Yukarıda hakkı bilgi verilen görsel aşağıdaki uygarlıklardan hangisine aittir?

- A) Sümerler
- B) Lidyalılar
- C) Mısırlılar
- D) Fenikeliler



13. Aşağıda televizyonda oynayan bir filmi kimlerin izleyebileceğine dair akıllı işaretler verilmiştir.



Verilen akıllı işaretlere göre filmi izleyecek kitle için

- I. 13 yaşından küçüklere uygundur.
- II. Şiddet ya da korku öğeleri içermektedir.
- III. Genel izleyici kitlesi tarafından izlenebilir.
- IV. Olumsuz örnek oluşturabilecek davranışlar içerir.

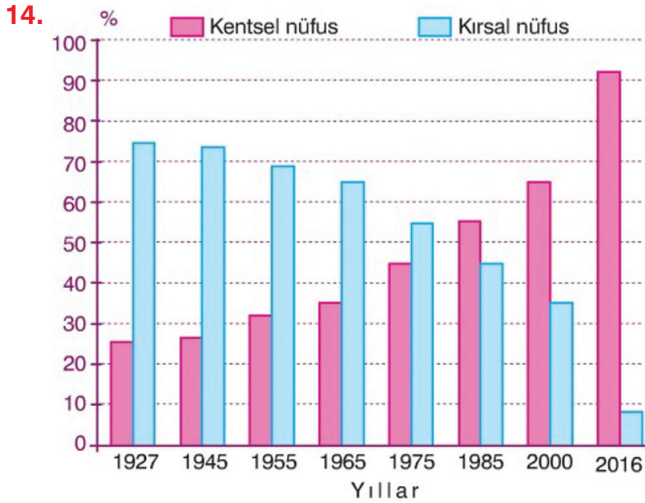
hangileri söylenebilir?

A) I ve III

B) II ve IV

D) I, II ve III

D) I, II ve IV



Kentsel ve kırsal nüfusun oranlarını gösteren grafikten aşağıdaki yargılardan hangisi çıkarılamaz?

- A) Kırsal nüfusun artış oranı sürekli azalmıştır.
- B) Kentsel nüfusun en fazla olduğu yıl 2016'dır.
- C) Nüfus artış hızı zamanla değişmiştir.
- D) Kırsal ve kent nüfusu hiçbir zaman eşit olmamıştır.

15.



Merhaba çocuklar! Benim yaşadığım ilçe bundan yıllar önce küçük bir köydü. Köyümüzde herkes birbirini tanırdı. Küçük, şirin, sakin köyümüzde mutlu bir şekilde yaşıyorduk. Bir gün maden mühendisi olduklarını söyleyen bir grup görevli geldi. Yaptıkları incelemeler sonucunda köyümüzde petrol bulunduğunu söylediler. Hemen petrolü çıkarmak için çalışmalar başladı. Petrolü çıkarmak için mühendisler, teknisyenler, işçiler köyümüze geldi. Çıkarılan petrolü işlemek için rafineri, fabrika kuruldu. Her geçen gün köyümüze yeni birileri geliyordu. Gelenler ailelerini de getirdi. Okullar, hastaneler, oteller, lokantalar hızla açıldı. Yeni evler yapıldı. Kısa sürede küçük köyümüz ilçe oldu. Şimdi çok kalabalık bir ilçede yaşıyoruz. Artık herkes birbirini tanımıyor.

Verilen metne göre köyün ilçe olmasında aşağıdakilerden hangisi etkili olmuştur?

- A) Eğitim seviyesindeki artış
- B) Doğum oranının artması
- C) Sağlık şartlarının iyileşmesi
- D) Dışardan göç alması