

SOSYAL BİLGİLER

7 SINIF



Yazarlar

ÇETİN KAYADELEN
BETÜL DERİCİ
CUMALİ GÜLER
YASİN GÖKÇE
REŞİT ÜNAL

Toplam süreniz

30 Dakika

Soru Sayısı

15

Deneme Formatı

13 MART'A KADAR İŞLENEN
KONULARI KAPSAYAN
GENEL DENEME

DENEMEDE SORULAN SORULARIN ÜNİTELERE GÖRE DAĞILIMLARI

	1	2	3	4	5	6	7	8	9	10	11	12	13	14	15
1. Ünite:	1				5			8					13		
2. Ünite:		2	3											14	15
3. Ünite:				4		6	7		9						
4. Ünite:										10	11	12			
5. Ünite:															
6. Ünite:															
7. Ünite:															



Daha fazla
döküman için:

fb.com/groups/ortaokulpaylasim

Online denemelere www.modeldeneme.com adresinden ulaşabilirsiniz

DENE MEVAKTI
Hedef Bizimle Daha Yakın

MODEL
EĞİTİM YAYINLARI

#EVDEKALÖĞRENCİ

Adı: _____

Soyadı: _____

Sınıf-Şube: _____

No: _____

Bu denemede toplam 15 soru bulunmaktadır. Soruların tamamını yanıtlamak için toplam 30 dakikanız vardır.

1.

Teknoloji her geçen gün hızla ilerlemeye devam ediyor. Geçmiş yıllarda gazete, dergiler, radyo daha sonra televizyon hayatımızda önemli yer tutarken günümüzde Genel Ağ radyo ve televizyonun yerini aldı. Genel Ağ ile iki yönlü iletişim sağlayabildiğimiz için günlük yaşamda sık sık kullanıyor. Bilgisayarlar, tabletler özellikle de akıllı telefonlar ile istediğimiz an iletişim kurup, istediğimiz bilgiye anında ulaşım sağlanıyor. Sosyal medya, web siteleri bilgiye ulaşma ve bilgiyi yayma hızını saniyelere, dakikalara düşürdü. Dünyanın her yerindeki haberlere anında ulaşabilme olanağına sahip bir dünyada yaşıyoruz.



Buna göre kitle iletişim araçları ile aşağıdakilerden hangisi söylenebilir?

- A) Eğlendirme amacı gütmektedir. B) Bilgiye ulaşma ve paylaşmayı kolaylaştırmıştır.
C) Kamuoyu oluşturmada etkisi bulunmamaktadır. D) Sosyal medyada ulaşılan her bilgi doğru değildir.

2. Aşağıda Orhan Bey döneminde yaşanan bazı gelişmeler verilmiştir:



Bizans'ta taht kavgalarının yaşandığı dönemde Çimpe Kalesi karşılığında Kantakuzenos'a yardım edildi ve bu yardım karşılığında Çimpe Kalesi Osmanlı'ya verildi.

1329 Maltepe Savaşı'nda Bizans'ı yendi ve İzmit, Gemlik ve İzmit'i fethederek Kocaeli yarımadasını Osmanlı hâkimiyetine aldı.

İlk defa Divan Teşkilatı ile Yaya ve Müsellem ismi verilen düzenli ordu Orhan Bey döneminde kuruldu.

Bu bilgilere göre Orhan Bey dönemi ile ilgili;

- I. Osmanlı Devleti'nin sınırları genişlemiştir.
II. Devlet yönetimi ile ilgili düzenlemeler yapılmıştır.
III. Bizans Devleti ile ekonomik ilişkiler gelişmiştir.

yargılarından hangilerine ulaşılabilir?

- A) I ve II B) Yalnız I C) II ve III D) I, II ve III



3.

Osmanlı Devleti, fethettiği topraklardaki halka adil ve hoşgörülü davranmıştır. Bu politika farklı yerlerdeki Türklerin gelip Osmanlı Devleti sınırlarına yerleşmesine ve fethedilen topraklardaki halkın Osmanlı Devleti'ne bağlılığını arttırmıştır.



Bu durumun aşağıdakilerden hangisine ortam sağladığı söylenebilir?

- A) Osmanlı Devleti'nin komşularıyla iyi ilişkiler kurmasına
- B) Fethedilen topraklarda Osmanlı Devleti'nin kalıcı olmasına
- C) Devletin yönetim şeklinde değişmeye gidilmesine
- D) Fetih politikalarının başarı sağlayamadığı için değiştirilmesine

4. Anadolu'da kurulan uygarlıklardan;

- ✓ Frigler, Sakarya Irmağı çevresinde,
- ✓ Lidyalılar, Gediz Irmağı çevresinde,
- ✓ Hititler, Kızılırmak çevresinde,
- ✓ Urartular, Van Gölü çevresinde kurulmuştur.

Verilen bilgilere göre bu uygarlıkların yerleşmesinde etkili olan faktör aşağıdakilerden hangisidir?

- A) Güvenlik ihtiyacı
- B) Su kaynaklarına yakınlık
- C) Bitki örtüsü çeşitliliği
- D) Yer altı kaynakları

5.

İletişim sırasında insanlar her zaman olumlu iletişim kuramamaktadır. Bunun nedenlerinden biri de iletişim sırasında yapılan iletişim hatalarıdır.

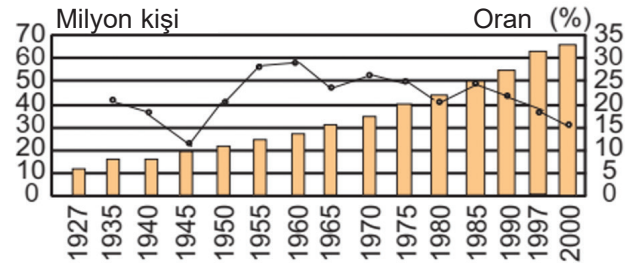
Bu bilgiden hareketle aşağıdakilerden hangisi iletişimi olumsuz etkileyen hatalardan biri olarak değerlendirilemez?

- A) Emir cümlesi kurmak
- B) Ön yargılı yaklaşmak
- C) Empati yapmak
- D) Öğüt vermek

6. "Sanayinin, ulaşımın, turizmin ve ticaretin geliştiği şehirlerde nüfus yoğunluğu fazla olur" diyen sosyal bilgiler öğretmeni bu görüşüne aşağıdaki şehirlerden hangisini kanıt gösterebilir?

- A) Rize
- B) Isparta
- C) Bursa
- D) Mardin

7.



Bu grafiğe göre aşağıdaki yorumlardan hangisi yapılamaz?

- A) Nüfus miktarının en az olduğu yıl 1927'dir
- B) Nüfus artış hızı 1985'ten sonra düşüşe geçmiştir
- C) Nüfus artış hızının en düşük olduğu yıl 1945'tir
- D) Kent nüfusu sürekli artış göstermiştir.



8. Aşağıda Sen Dili ve Ben Dili ile ilgili örnek cümleler verilmiştir.

- I. Tabletle çok zaman geçirdiğin için derslerine çalışmıyorsun.
- II. Dün okula gelmediğin için çok endişelendim.
- III. Sürekli kendini düşünmekten vazgeçmelisin.
- IV. Okullar uzun süre acıkmayacak diye korkuyorum.

Verilen cümlelerin Sen Dili ve Ben Dili olarak sınıflandırılması hangi seçenekte doğru verilmiştir?

	Sen Dili	Ben Dili
A)	I ve III	II ve IV
B)	II ve III	I ve IV
C)	I ve IV	II ve III
D)	II ve IV	I ve III

9. Merhaba ben Rim. Ben ve ailem Suriye'de çıkan iç savaş sonunda zorunlu olarak Türkiye'ye göç ettik. Türkiye Cumhuriyeti misafirperverliğini göstererek kapılarını bize açtı. Şuan Türkiye'de yaşıyoruz.



Rim ve ailesinin yaptığı göç türü aşağıdakilerden hangisidir?

- A) Beyin göçü
- B) Mülteci göçü
- C) Gönüllü göç
- D) İç göç

10.

Zigguratlar Sümerler tarafından tapınak olarak kullanılan yapılarıdır. En alt katları depo olarak kullanılır, orta katlarında okul ve ibadethaneler yer alırken en üst kat ise rasathane olarak kullanılmıştır. Rasathaneler sayesinde astronomi gelişmiştir.

Buna göre aşağıdaki yargılardan hangisine ulaşılamaz?

- A) Zigguratlar çok amaçlı kullanılmıştır.
- B) Sümerler bilimsel çalışmalarda bulunmuşlardır.
- C) Yazıyı Sümerler bulmuştur.
- D) Sümerlerde eğitime önem verilmiştir.

11.

Fatih Sultan Mehmet, bilim insanlarını koruyan, dil, din ayrımı yapmadan hepsine değer veren, bilimsel gelişmeleri yakından takip eden bir devlet adamıdır. Padişahlığı döneminde Sahn-ı Seman Medresele-ri'ni açmıştır. Elçilik görevi ile İstanbul'a gelen dönemin önemli bilim insanlarından Ali Kuşçu'yu İstanbul'a davet ederek çalışmalarına burada devam etmesini sağlamıştır.

Buna göre aşağıdakilerden hangisi çıkarılamaz?

- A) Eğitime önem verilmektedir.
- B) Bilimsel çalışmalar desteklenmiştir.
- C) Avrupa bilimsel olarak gelişmiştir.
- D) Bilim insanlarına değer verilmiştir.

12.

Harezmi, 780 yılında Özbekistan'ın Karizmi kentinde dünyaya gelmiştir. Cebirin ve algoritmanın kurucusu olarak kabul edilir. "Sıfır"ı bulmuş ve böylece günümüzde kullandığımız onlu sayı sistemi ortaya çıkarmıştır.

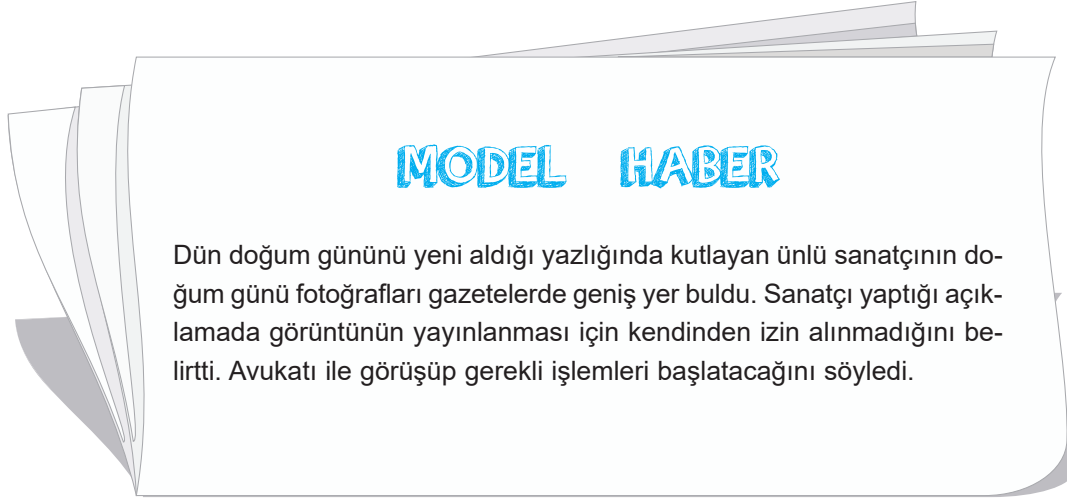


Bu bilgiye göre Harezmi'nin aşağıdaki bilim dallarından hangisi üzerine çalışma yaptığı söylenebilir?

- A) Matematik
- B) Astronomi
- C) Coğrafya
- D) Fizik



13.




Gazete haberine göre aşağıdakilerden hangisi ihlal edilmiştir?

- A) Yaşama Hakkı
B) Özel Hayatın Gizliliği
C) Düşünceyi İfade özgürlüğü
D) Yerleşme ve Seyahat Hürriyeti

14. ➡ 1855'te İstanbul – Edirne arasında telgraf hattı kuruldu.

➡ 1856'da İzmir – Aydın arasında demiryolu hattı yapılmaya başlandı.

➡ 1863'te Memleket Sandıkları kuruldu ve Ziraat Bankasının temelleri atıldı.



Bu bilgilere göre aşağıdaki çıkarımlardan hangisi doğru değildir?

- A) Ekonominin gelişmesi için çalışmalar yapılmıştır.
B) Ulaşım alanında yatırımlara Anadolu'da başlanmıştır.
C) Haberleşmenin hızlanması için atılımda bulunulmuştur.
D) Halkın sağlığına ve güvenliğine önem verilmiştir.

15. İngiltere'de başlayan Sanayi İnkılabı kısa sürede tüm dünyada etkisini gösteren bir olaydır. Sanayi İnkılabı ile birlikte insan ve hayvan gücünün yerini makineler almıştır. Yani kol gücünden makine gücüne geçiş yaşanmıştır. Makinelerin üretimde kullanmaya başlaması ile birlikte üretim hızlanmıştır. Fabrikalarda daha fazla üretim yapmak için ham maddeye duyulan ihtiyaç artmış, üretilen ürünlerin satılması için pazar ihtiyacı ortaya çıkmıştır. Ham madde ve pazar arayışı içinde olan devletlerin mücadelesi Birinci Dünya Savaşı'nın çıkmasında etkili olmuştur.

Buna göre Sanayi İnkılabı ile ilgili;

- I. Üretim alanında artış yaşanmasına
II. Devletlerin birbirleriyle rekabet etmesine
III. Evrensel sonuçların ortaya çıkmasına

hangilerine neden olduğu savunulabilir?

- A) Yalnız I
B) I ve III
C) II ve III
D) I, II ve III